








Auf der Karte sind viele Gegenstände und Schätze markiert.
Um zu ihnen zu gelangen, musst du zuerst die Zahlen finden,
die sich hinter den Bildern verstecken.

1


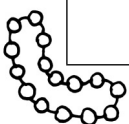


1	2	3	4	5	6	7	8	9	10
11			14	15	16	17	18	19	20
21		23	24	25			28	29	30
31	32	33	34	35	36	37	38	39	40
41	42	43		45	46	47	48	49	50
51	52	53		55	56	57	58	59	60
61	62	63	64	65	66	67	68	69	70
	72	73	74	75	76	77	78	79	80
81	82	83	84	85	86			89	90
91	92	93	94	95	96			99	100

Welche Zahlen verstecken
sich hinter den Bildern?

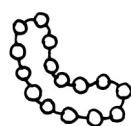


Auf der Karte sind viele Gegenstände und Schätze markiert.
Um zu ihnen zu gelangen, musst du zuerst die Zahlen finden,
die sich hinter den Bildern verstecken.

1

				5					10
				15					20
				25					30
				35					40
				45					50
				55					60
				65					
									
									90
				95					100

Welche Zahlen verstecken
sich hinter den Bildern?





Kapitän Raubein hat sich für seinen Piratenhut ein Motiv überlegt. Kannst du die Form erkennen?



		3					8		
			14						
						27			30
				35					
41									49
	52								
			64				68		
		73							
	82						87		
				95					

Male die folgenden Felder grau an:

6, 15, 16, 17, 26, 36, 46, 52, 53, 54, 56, 58, 59, 60, 62, 63, 66, 69, 70, 72, 74, 76, 78, 80, 85, 86, 87, 96

Welche Form ist entstanden?



Kapitän Säbelzahn hat auf seinem Schiff einen neuen Matrosen angeheuert. Kannst du seinen Namen entschlüsseln?

1	2	3	4	5	6	7	8	9	10
11	12	13	14	15	16	17	18	19	20
21	22	23	24	25	26	27	28	29	30
31	32	33	34	35	36	37	38	39	40
41	42	43	44	45	46	47	48	49	50
51	52	53	54	55	56	57	58	59	60
61	62	63	64	65	66	67	68	69	70
71	72	73	74	75	76	77	78	79	80
81	82	83	84	85	86	87	88	89	90
91	92	93	94	95	96	97	98	99	100



Male die folgenden Felder blau an:

2, 3, 4, 12, 14, 22, 24, 32, 33, 34

17, 27, 37, 47, 48, 49

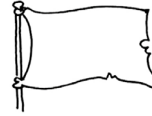
54, 55, 56, 64, 74, 75, 84, 94, 95, 96

Wie heißt der neue Matrose?





Kapitän Säbelrost möchte für sein Schiff
eine Piratenflagge entwerfen.
Hilf ihm dabei, ein Muster zu finden.



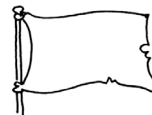
14a

1	2	3	4	5	6	7	8	9	10
11	12	13	14	15	16	17	18	19	20
21	22	23	24	25	26	27	28	29	30
31	32	33	34	35	36	37	38	39	40
41	42	43	44	45	46	47	48	49	50
51	52	53	54	55	56	57	58	59	60
61	62	63	64	65	66	67	68	69	70
71	72	73	74	75	76	77	78	79	80
81	82	83	84	85	86	87	88	89	90
91	92	93	94	95	96	97	98	99	100

Schreibe die Zahlen in den
grau hinterlegten Feldern auf.

Setze das Muster auf
der unteren Hälfte der
Hundertertafel fort.
Schreibe die Zahlen auf.

Kapitänin Goldzahn möchte für ihr Schiff
eine Piratenflagge entwerfen.
Hilf ihr dabei, ein Muster zu finden.



14b

1	2	3	4	5	6	7	8	9	10
11	12	13	14	15	16	17	18	19	20
21	22	23	24	25	26	27	28	29	30
31	32	33	34	35	36	37	38	39	40
41	42	43	44	45	46	47	48	49	50
51	52	53	54	55	56	57	58	59	60
61	62	63	64	65	66	67	68	69	70
71	72	73	74	75	76	77	78	79	80
81	82	83	84	85	86	87	88	89	90
91	92	93	94	95	96	97	98	99	100

Setze das Muster so fort,
dass drei Zick-Zack-Reihen
entstehen. Schreibe die Zahlen
in den grau hinterlegten
Feldern auf.

1. Reihe:

2. Reihe:




3. Reihe:





Auf der Schatzkarte sind die Wege zu zwei Schätzen markiert.
Kannst du gemeinsam mit Piratin Anni die Wege ablaufen?

20a

		3				8		
		 14						
						27		30
				35				
41								49
	52							
							68	
		73						
	82					87		
				95				






Wie kommt Piratin Anni jeweils ans Ziel? Schreibe die Zahlen nacheinander auf. Schreibe die Zehner in blau, die Einer in grün.



Auf der Schatzkarte sind die Wege zu zwei Schätzen markiert.
Kannst du gemeinsam mit Pirat Jimmy die Wege ablaufen?

20b

		3				8		
			14					
						27		
				35				
41								49
								
			64				68	
		73						
	82							
				95				



Wie kommt Pirat Jimmy jeweils ans Ziel? Schreibe die Zahlen nacheinander auf. Schreibe die Zehner in blau, die Einer in grün.

















Auf der Insel sind viele Schätze versteckt. Folge Piratin Anni auf ihren Wegen und finde heraus, welche Schätze sie entdeckt hat.

20a

		3					8		
			14						
						27			30
				35					
41								49	
	52								
			64				68		
		73							
	82					87			
				95					

Folge den Zahlenspuren.
Welchen Schatz findet Piratin Anni jeweils auf ihrem Weg?











a) 22, 23, 33, 34, 35, 45, 46, 47, 48

b) 22, 32, 42, 52, 62, 72, 73, 83, 84

c) 22, 12, 2, 3, 13, 14, 15, 16, 6, 7

Auf der Insel sind viele Schätze versteckt. Folge Pirat Jimmy auf seinen Wegen und finde heraus, welche Schätze er entdeckt hat.

20b

		3					8		
			14						
						27			30
				35					
41								49	
	52								
			64				68		
									
	82					87			
				95					

Folge den Zahlenspuren.
Welchen Schatz findet Pirat Jimmy jeweils auf seinem Weg?

a) 79, 89, 88, 87, 77, 67, 66, 56, 57

b) 79, 80, 70, 60, 59, 49, 39, 38, 28

c) 79, 78, 68, 67, 66, 65, 75, 74, 73



Hin und her auf dem Piratenschiff – Spielplan

