



## Chez le marchand de glace

Anne, Ingrid et Florian vont chez le marchand de glace et achètent de la glace pour eux et d'autres personnes.










Lis les indications et essaie de trouver quelques détails. Découpe les images et colle-les dans le tableau.

	Anne	Ingrid	Florian
combien de boules de glace?			
pour qui?			
prix d'une boule			

1. Ingrid adore la glace et paie 5,20 € en tout.
2. Florian et sa femme vont chez le marchand de glace ensemble.
3. Anne achète deux boules de glace pour son père.
4. Les deux mangent sept boules ensemble et paient 10 €, dont 0,20 € de pourboire.
5. La boule de glace chez le marchand de glace d'Anne coûte 0,20 € de moins que chez celui de Florian.
6. Ingrid mange quatre boules de glace.

Qui s'achète de la glace seulement pour soi-même? \_\_\_\_\_






 <b>2</b>	 <b>4</b>	 <b>7</b>
 <b>son père</b>	 <b>elle-même</b>	 <b>lui et sa femme</b>
 <b>1,20 €</b>	 <b>1,30 €</b>	 <b>1,40 €</b>



## Chez le marchand de glace

Anne, Ingrid, Florian et Chris vont chez le marchand de glace et s'achètent beaucoup de boules de glace pour eux et pour d'autres personnes.

Découvre ce qu'ils achètent et pour qui, remplis le tableau à l'aide des indications.

	Anne	Ingrid	Florian	Chris
combien de boules de glace? 				
pour qui? 				
prix d'une boule 				

1. Les boules de glace ont des différences de prix de seulement 0,10 €.
2. Ingrid s'achète 4 boules de glace.
3. Le père d'Anne ne prend que deux boules.
4. La femme de Florian mange trois boules de glace et lui prend même une boule de plus.
5. Une fille mange la moitié des boules de l'autre.
6. Anne paie 2,40 €.
7. Ingrid doit payer 5,20 € pour la glace pour elle-même.
8. Chris achète de la glace pour toute sa famille – Camille et leurs enfants Jessy et Jenny.
9. La boule de glace chez le marchand de glace de Florian coûte 0,10 € de plus que celle du marchand d'Ingrid.
10. Le marchand de glace de Chris a la glace la moins chère.

Qui achète neuf boules de glace? \_\_\_\_\_



## Chez le marchand de glace

Voilà quatre hommes et femmes qui profitent d'une belle journée d'été et vont acheter de la glace pour eux et leurs proches.

Apprends quelques détails sur eux. Lis les indications et remplis le tableau.

	Anne	Ingrid	Florian	Chris
combien de boules de glace?				
pour qui?				
prix d'une boule				
nom du marchand				










- Chris achète deux boules de glace de plus que Florian.
- Ingrid achète de la glace seulement pour elle.
- Florian doit payer 9,80 € en tout.
- Antonio vend la meilleure glace, pense Ingrid.
- Anne ne mange pas de glace, mais son père prend deux boules.
- Daniele vend la boule de glace à 1,40 € pièce.
- Chris adore la glace de Stefano.
- 1,30 € pour chaque boule? – Voilà, Ingrid paie 5,20 €.
- Florian et sa femme achètent souvent de la glace chez Daniele.
- Jessy, Jenny et leurs parents Camille et Chris mangent de la glace chaque vendredi.
- Chris paie 0,10 € de plus que Florian en tout.
- La boule de glace du quatrième marchand de glace coûte 1,20 €.






De qui Enrico est-il le marchand de glace? \_\_\_\_\_



## Lösung

★	Anne	Ingrid	Florian
combien de boules de glace?	 2	 4	 7
pour qui?	 son père	 elle-même	 lui et sa femme
prix d'une boule	 1,20 €	 1,30 €	 1,40 €

Qui s'achète de la glace seulement pour soi-même? Ingrid.

★★	Anne	Ingrid	Florian	Chris
combien de boules de glace?	2	4	7	9
				
pour qui?	son père	elle-même	lui et sa femme	Camille, lui, Jenny, Jessy
				
prix d'une boule	1,20 €	1,30 €	1,40 €	1,10 €
				

Qui achète neuf boules de glace? Chris.

★★★	Anne	Ingrid	Florian	Chris
combien de boules de glace?	2	4	7	9
pour qui?	son père	elle-même	lui et sa femme	Camille, lui, Jenny, Jessy
prix d'une boule	1,20 €	1,30 €	1,40 €	1,10 €
nom du marchand	Enrico	Antonio	Daniele	Stefano

De qui Enrico est-il le marchand de glace? Le marchand de glace d'Anne.