

## Gemüsesuppe

① Schreibe die Namen der Gemüsesorten auf die Linien.

Radieschen

Erbsen

Karotte

Champignons

Gurke

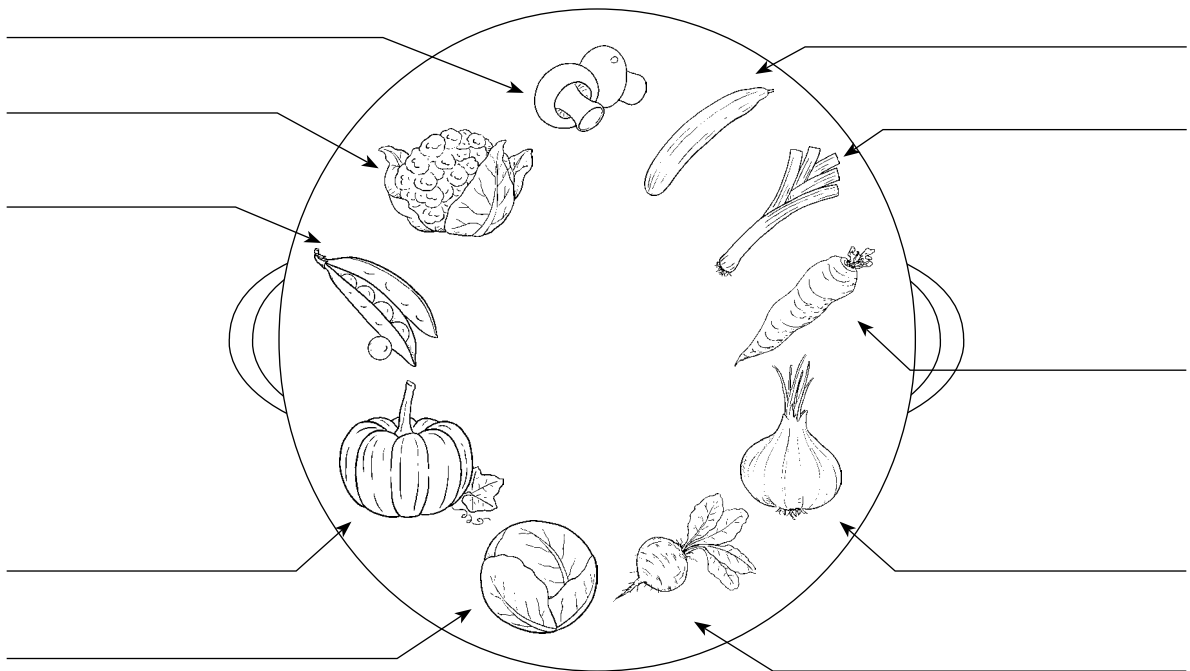
Kürbis

Lauch

Blumenkohl

Zwiebel

Weißkohl



② Fülle die Lücken mit den richtigen Gemüsesorten.

R \_ \_ \_ \_ \_ N

K \_ \_ \_ \_ \_ I

L \_ \_ \_ \_ N

P \_ \_ \_ \_ A

Z \_ \_ \_ \_ L

K \_ \_ \_ \_ S

S \_ \_ \_ \_ T

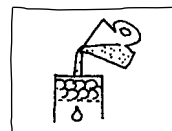
R \_ \_ \_ \_ L

B \_ \_ \_ \_ I

K \_ \_ \_ \_ E

Karotte	Kürbis	Paprika
Brokkoli	Zwiebel	Spinat
Linsen	Kohlrabi	Radieschen

# Alles Getreide



## ① Verbinde.

Popcorn und  
Cornflakes  
werden ...

Maiskörner  
sind ...

Die Maispflanze  
wird ...

Müsli wird aus ...

Man kann  
Müsli mit ...

Knäckebrot wird  
aus ...

Nudeln werden  
meistens ...

Es gibt aber auch  
Nudeln, die aus ...

... Milch oder Joghurt  
essen.

... aus Weizen  
gemacht.

... Dinkel oder Vollkorn  
hergestellt sind.

... 1,80 m hoch.

... gelb.

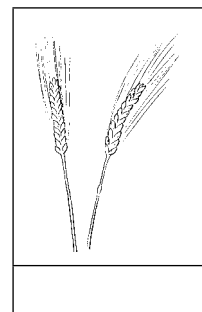
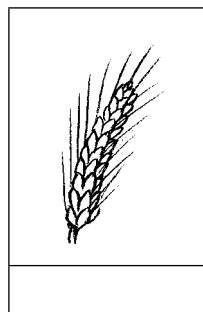
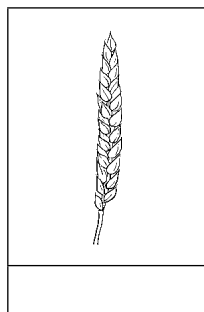
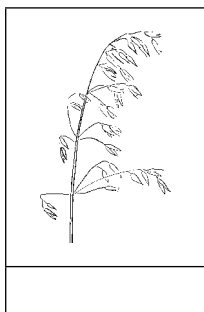
... aus Mais  
hergestellt.

... Weizenvollkornmehl  
oder Roggen-  
vollkornmehl  
hergestellt.

... Vollkornflocken  
hergestellt.

## ② Beschrifte die Getreidesorten. Diese Wörter helfen dir:

Hafer Gerste Weizen Roggen


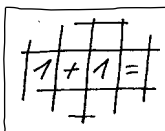


### Für Experten:

Woher kommt das Knäckebrot? Wo ist die Heimat des Mais?

# Hühner und Enten


1 Quadratmeter (qm) ist  
1 · 1 m groß.  
1 m = 100 cm



Rechne die Aufgaben.

- ① In der Käfighaltung müssen auf einem Quadratmeter 20 Hühner leben. Wie viel Platz hat ein Huhn? Gib deine Antwort in cm<sup>2</sup> an. Schneide eine entsprechende Fläche aus und male ein Huhn darauf.


Rechnung:



Antwort: \_\_\_\_\_

- ② Bauer Kramer züchtet Enten. Er hat jetzt 44 Enten und 18 Entenküken. Wenn von den 18 Entenküken später 8 Enten jeweils 2 Eier legen und sie ausbrüten, wie viele Enten leben dann bei Bauer Kramer?


Rechnung:



Antwort: \_\_\_\_\_

- ③ Wenn du Köpfe und Beine aller Hühner zusammenzählst, die ein Landwirt auf seinem Hof hat, erhältst du 228. Wie viele Hühner gibt es auf dem Hof?

Rechnung:




Antwort: \_\_\_\_\_



**Zum Rätseln:** Zwei Väter und zwei Söhne teilen drei Ostereier so unter sich auf, dass jeder ein ganzes Osterei erhält. Wie geht das?




# Nudelkunst



## Du brauchst:

- viele unterschiedliche Nudelsorten
- Alleskleber
- schweres Kartonpapier
- Filzstifte (rot, blau, gelb, grün)
- 1 Rahmen




## So geht es:

1. Male die Nudeln mit den Filzstiften bunt an, lege sie auf Zeitungspapier und lasse sie trocknen.
2. Lege einen Bogen Kartonpapier in der Größe des Rahmens auf den Tisch und kreierte mit den Nudeln ein Bild.
3. Klebe die Nudeln mit dem Alleskleber auf das schwarze Kartonpapier.
4. Lasse den Kleber trocknen und rahme dann das Bild.

# Nudelketten

## Du brauchst:

- unterschiedliche Nudelsorten, durch die ein Faden gezogen werden kann
- Filzstifte (rot, blau, gelb, grün)
- 1 reißfester Faden
- 1 große Nähnadel oder Stopfnadel



## So geht es:

1. Male die Nudeln mit den Filzstiften bunt an und lasse sie trocknen.
2. Nimm einen Faden und bestimme die Länge.
3. Fädle den Faden in die Nadel.
4. Ziehe nun die unterschiedlichen Nudeln auf, bis der Faden fast voll ist.
5. Knote den Faden ganz fest und hänge dir die Nudelkette um oder verschenke sie.



### Erklärung für Experten:

Mache auch eine Kette aus Sonnenblumenkernen, Apfelkernen usw.