

Name:


Datum:

Entdecke die Zahl 12

Schreibe. 

12

Immer 12. Kreise immer 12 ein. 



Male. 



11



12

Trage die fehlenden Zahlen ein. 





1		3		5			8		
11									





Name:





Datum:





Menge 12





Wie viele sind es? 





	
	





	
	





	
	

Name:

Datum:

Zahlenreihe bis 12 und Größer/kleiner/gleich

Trage die fehlenden Zahlen ein. 

1	2		4		6	7		9	
11									

	2	3			6		8	9	
11									

1				5					10

Trage ein: > größer < kleiner = gleich. 

9	<input type="text"/>	8	12	<input type="text"/>	11
6	<input type="text"/>	5	10	<input type="text"/>	10
3	<input type="text"/>	4	11	<input type="text"/>	12
11	<input type="text"/>	10	7	<input type="text"/>	6
9	<input type="text"/>	10	11	<input type="text"/>	12

Name:

Datum:

Gemischte Aufgaben (Teil 2)

Male die Punkte an und rechne.  

○ ○ ○ ○ ○ ○	○ ○ ○ ○ ○ ○
○ ○ ○ ○ ○ ○	○ ○ ○ ○ ○ ○

$$4 + 8 = \square$$

○ ○ ○ ○ ○ ○	○ ○ ○ ○ ○ ○
○ ○ ○ ○ ○ ○	○ ○ ○ ○ ○ ○

$$9 + 2 = \square$$

○ ○ ○ ○ ○ ○	○ ○ ○ ○ ○ ○
○ ○ ○ ○ ○ ○	○ ○ ○ ○ ○ ○

$$7 + 5 = \square$$

○ ○ ○ ○ ○ ○	○ ○ ○ ○ ○ ○
○ ○ ○ ○ ○ ○	○ ○ ○ ○ ○ ○

$$2 + 10 = \square$$

○ ○ ○ ○ ○ ○	○ ○ ○ ○ ○ ○
○ ○ ○ ○ ○ ○	○ ○ ○ ○ ○ ○

$$12 - 3 = \square$$

○ ○ ○ ○ ○ ○	○ ○ ○ ○ ○ ○
○ ○ ○ ○ ○ ○	○ ○ ○ ○ ○ ○

$$12 - 7 = \square$$

○ ○ ○ ○ ○ ○	○ ○ ○ ○ ○ ○
○ ○ ○ ○ ○ ○	○ ○ ○ ○ ○ ○

$$11 - 8 = \square$$

○ ○ ○ ○ ○ ○	○ ○ ○ ○ ○ ○
○ ○ ○ ○ ○ ○	○ ○ ○ ○ ○ ○

$$12 - 2 = \square$$