







Berge in Europa

5

1.  Schaue dir die Berge neben der Skala an und  notiere ihre Höhen.
2. Finde anschließend mit Hilfe eines Atlases heraus, in welchem Land die Berge liegen.  Schreibe das Land auf die Linien.  Notiere auch den Namen des Gebirges.
3. Ist dir bei der Kennzeichnung der Gebirge auf der Karte im Atlas etwas aufgefallen?
 Schreibe unten auf die Linie.

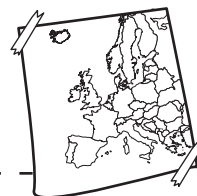


Europa, ein Kontinent

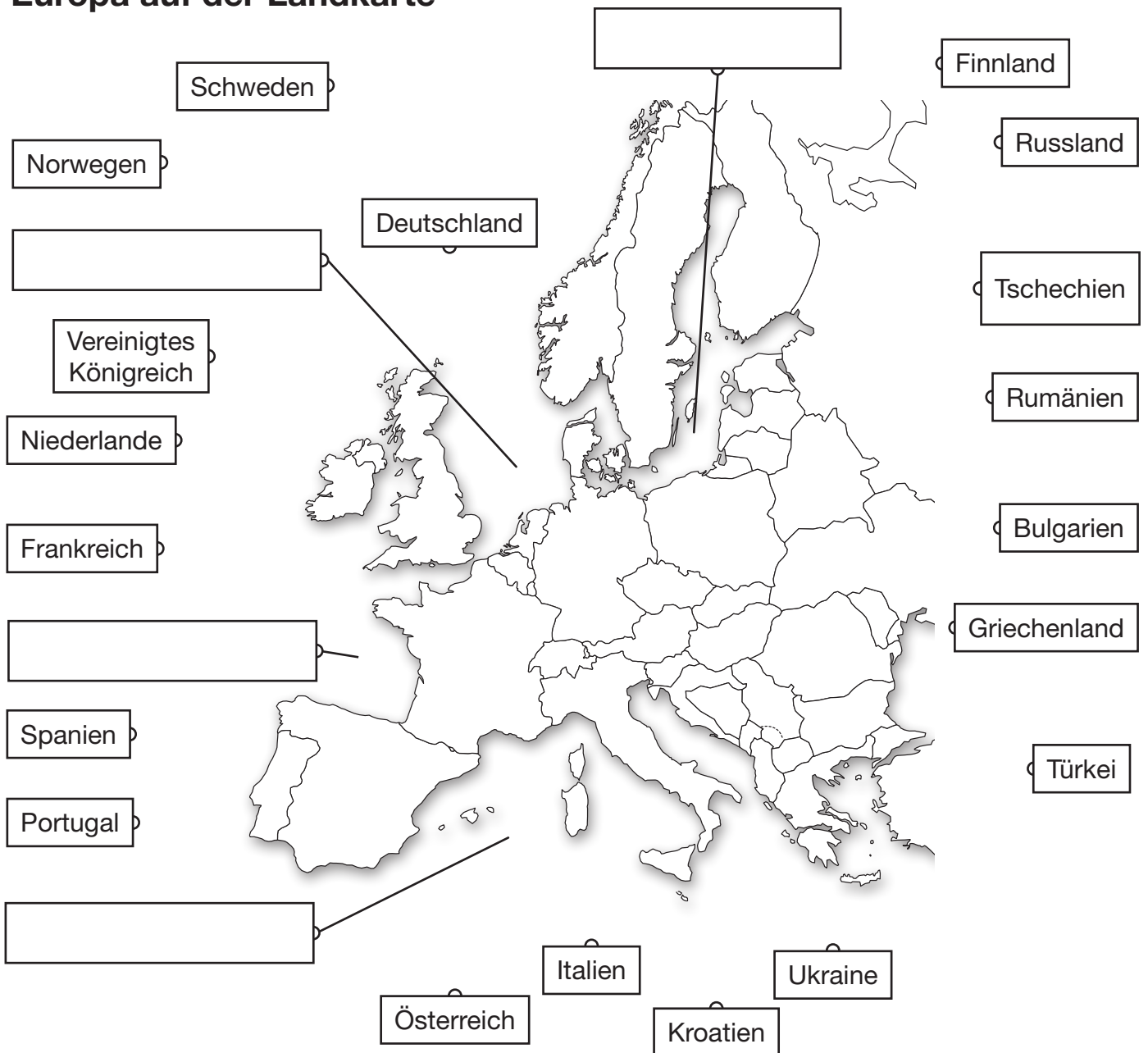
6

Unsere Erde besteht aus sieben Erdteilen, genannt Kontinente.

 Versuche, die Kontinente auf dem Arbeitsblatt richtig einzutragen.



Europa auf der Landkarte



Nordeuropa: _____

Osteuropa: _____

Mitteuropa: _____

Südosteuropa: _____

Südeuropa: _____

Westeuropa: _____

Steckbrief

Land: _____

Hauptstadt: _____

Sprache: _____

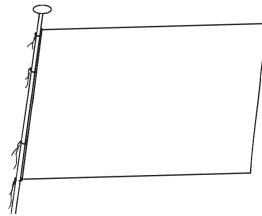
Größe (km²): _____

Einwohnerzahl: _____

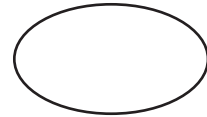
Große Städte: _____

Große Flüsse: _____

Große Berge: _____



Flagge



Autokennzeichen

Hier ist Platz für ein Foto oder Bild.

Produkte aus diesem Land, die bei uns zu kaufen sind: _____

Besonderheiten (Speisen / Bräuche / Tänze usw.): _____

Bekannte Frauen / Männer (Politiker, Künstler, Sportler usw.): _____

Bekannte Sportvereine (Fußballklubs, Eishockeyklubs usw.): _____