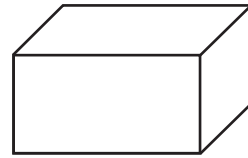
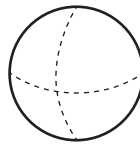
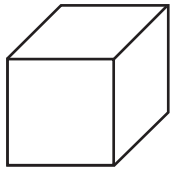


Rate mit: Welches Bauwerk ist gemeint?




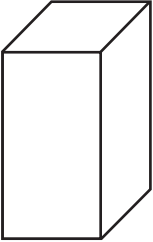
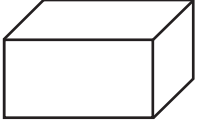

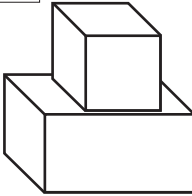
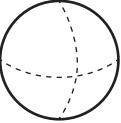
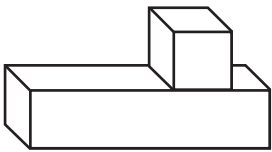

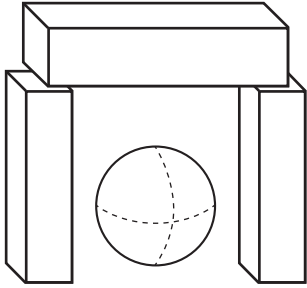
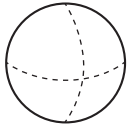


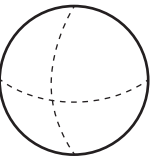
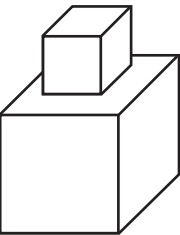
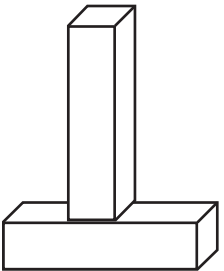


1.  Beschrifte richtig: Würfel, Quader, Kugel.

Name: _____
Datum: _____



2.  Lies genau. Welches Bauwerk passt zum Text?  Male es in den richtigen Farben an.  Schreibe die Zahl in das Kästchen.

<p>1. Eine rote Kugel liegt zwischen zwei braunen Quadern. Auf den Quadern liegen gelbe Würfel.</p>	    
<p>2. Links liegt eine lila Kugel. Rechts sind zwei grüne Quader. In der Mitte sind zwei Würfel. Der kleine Würfel ist orange. Der große Würfel ist blau.</p>	   
<p>3. Links liegen zwei rote Würfel. In der Mitte steht ein blauer Quader. Rechts liegt ein lila Quader.</p>	   
<p>4. Die blaue Kugel liegt unter einem roten Quader. Der linke und der rechte Quader sind rosa. Der Würfel ist blau.</p>	   




Rate mit: Welcher Körper ist gemeint?





Name: _____

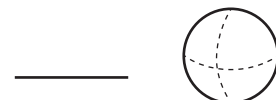
Datum: _____

1. Überlege gut!  Wenn du die richtigen Felder ausmalst, dann erhältst du einen Lösungssatz.

	😊 richtig	☹ falsch
1. Ein Würfel hat 6 Flächen.	D	K
2. Ein Würfel hat 12 Ecken.	A	U
3. Ein Würfel hat 12 Kanten.	H	L
4. Ein Quader hat 8 Flächen.	P	A
5. Ein Quader hat 8 Ecken.	S	U
6. Ein Quader hat 12 Kanten.	T	B
7. Eine Kugel hat 2 Flächen.	O	R
8. Eine Kugel hat keine Ecken.	E	SCH
9. Eine Kugel hat Kanten.	E	CH
10. Ein Würfel ist ein besonderer Quader mit 6 gleichen Flächen.	T!	N!

 **Lösungssatz:** _____

2. Welcher Körper ist gemeint?  Lies und  schreibe.





- a) Mein Körper hat 6 Flächen und 8 Ecken. Die Kanten sind verschieden lang. Das ist ein _____ .
- b) Mein Körper kann gut rollen. Er hat keine Kanten und keine Ecken. Das ist eine _____ .
- c) Mein Körper kann umkippen. Du kannst ihn stapeln. Er hat 8 Ecken und 6 gleich große Flächen. Das ist ein _____ .

Wo ist Rudis Würfel?

Baue dir die
Würfel so auf!
Schau selbst!




Name: _____
Datum: _____

1. Das ist Rudis Lieblingswürfel:  Wo sieht
Rudi den Würfel?  Schreibe auf: Rechts
oder links? Vorne oder hinten?



Foxi

Wo sieht ihn Foxi?



Wo siehst du ihn?


Wo sieht ihn Rudi?

rechts hinten




Tom

Wo sieht ihn Tom?

2. Wo ist Rudis Würfel?  Schreibe auf: Rechts oder links?
Vorne oder hinten?



Wo sieht ihn Foxi?




Wo siehst du ihn?

Wo sieht ihn Rudi?




Wo sieht ihn Tom?

3. Wo ist Rudis Würfel?  Schreibe auf: Rechts oder links?
Vorne oder hinten?



Wo sieht ihn Foxi?



Wo siehst du ihn?

Wo sieht ihn Rudi?



Wo sieht ihn Tom?
