

Handlungsorientiertes Lernkonzept

Matto der Wattwurm® – Kinder lernen von der Natur

Klasse 1 · Modul 1

Zahlen- und Mengenerfassung bis 10

Name



© Myrtel® Verlag
5., unveränderte Auflage 2020

ISBN 978-3-938782-82-8

Alle Rechte vorbehalten.

Das Werk und seine Teile sind urheberrechtlich geschützt.

Jede Nutzung in anderen als den gesetzlich zugelassenen Fällen bedarf der vorherigen schriftlichen Einwilligung des Verlages.

Hinweis zu §§ 60 a, 60 b UrhG: Weder das Werk noch seine Teile dürfen ohne eine solche Einwilligung an Schulen oder in Unterrichts- und Lehrmedien (§ 60 b Abs. 3 UrhG) vervielfältigt, insbesondere kopiert oder eingescannt, verbreitet oder in ein Netzwerk eingestellt oder sonst öffentlich zugänglich gemacht oder wiedergegeben werden. Dies gilt auch für Intranets von Schulen.

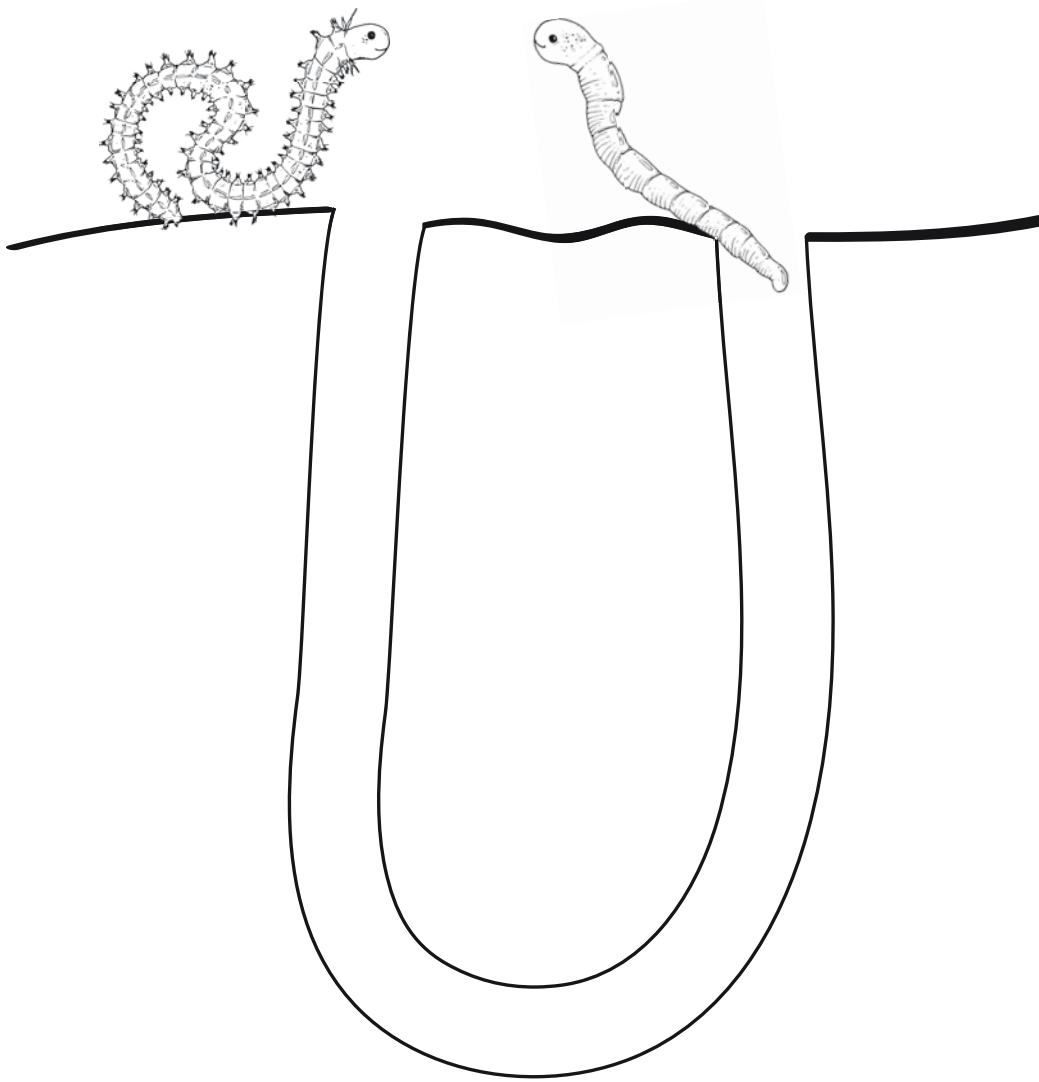
Satz/Layout: PrePress-Salumae.com, Kaisheim

www.myrtel.de



Die Null

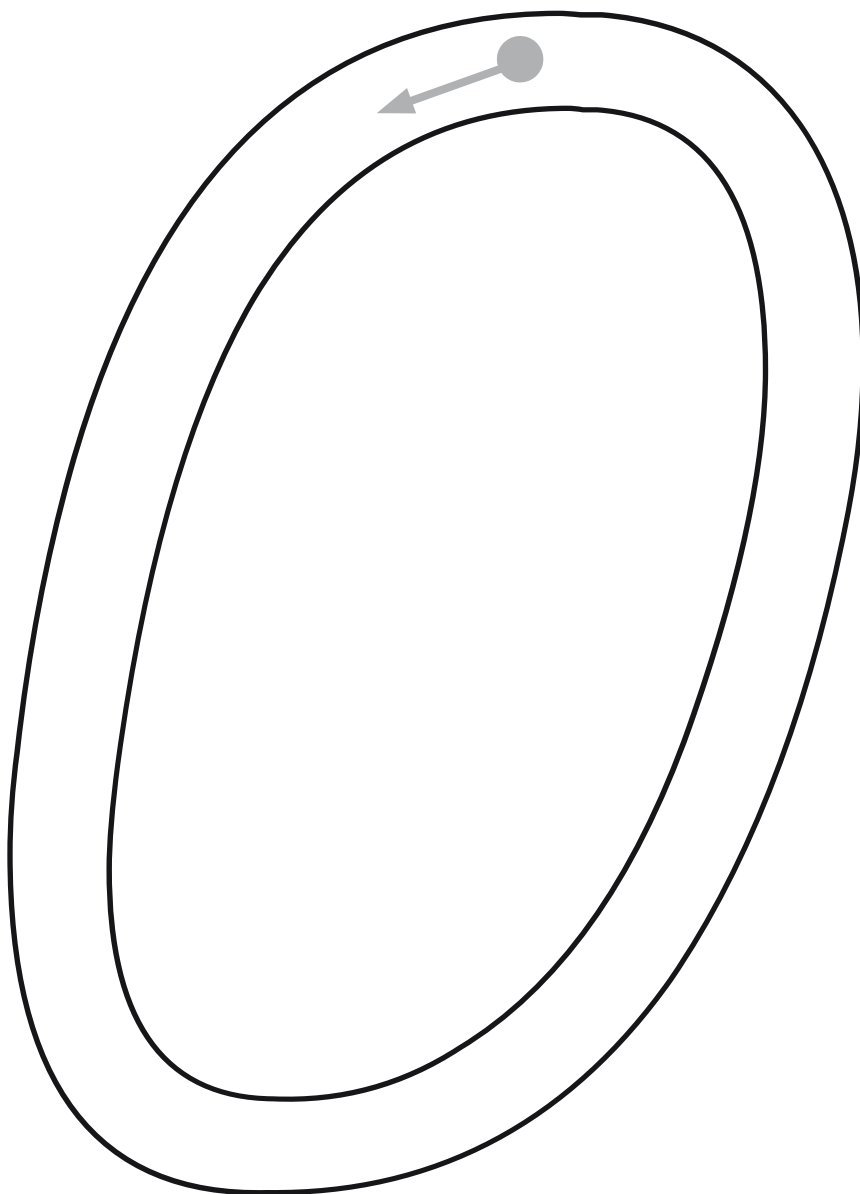
Was hat Elle mit Mattos Schätzen gemacht?
Was befindet sich noch in der Röhre?



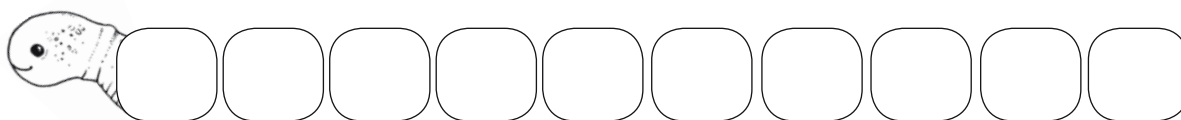
Die Null



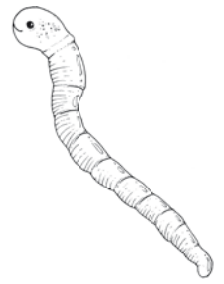
Schreibe die Null mit dicken Buntstiften in verschiedenen Farben nach!



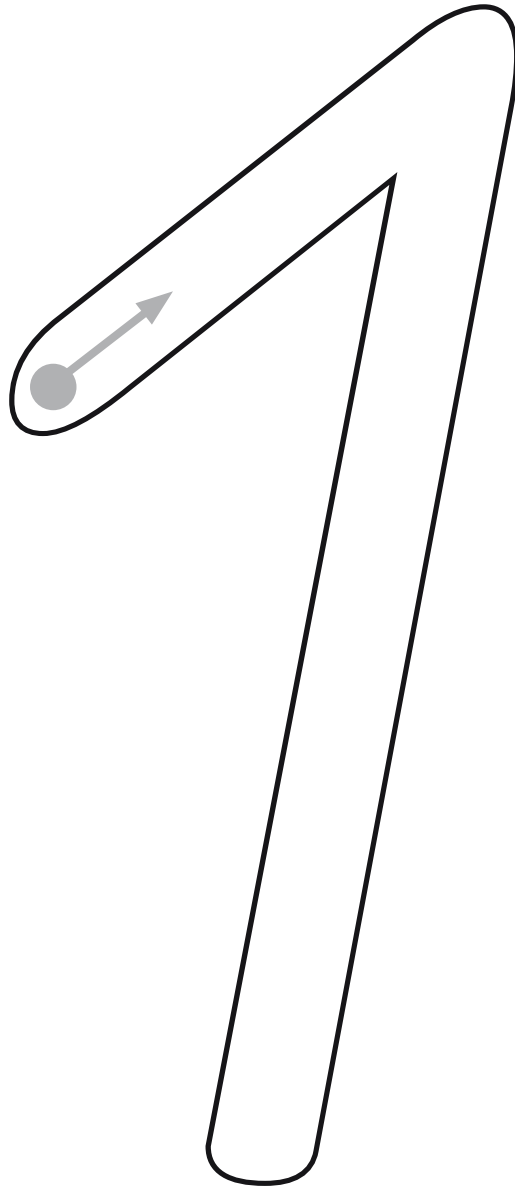
Male 0 Segmente von Matto an!



Die Eins



Schreibe die Eins mit dicken Buntstiften in verschiedenen Farben nach!



Male 1 Segment von Matto an und schreibe die Zahl hinein!





Schreibe die Eins mit dicken Buntstiften in verschiedenen Farben nach!



Schreibe nach!



Schreibe selbst!



1					




Kreise immer 5 Seesterne in einer anderen Farbe ein!
Kreise sie geschickt ein und male einen Seestern an!



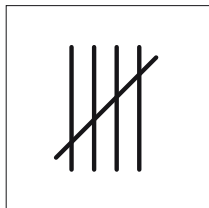
Wie zählt Matto?



Mengenbild



Würfelbild



Strichliste



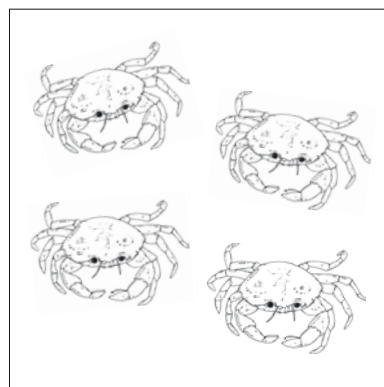
Zahl



Schreibe die Zahlen in die leeren Kästchen!




	.	1
--	---	---



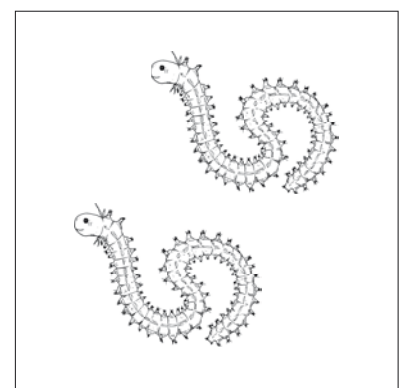
	•• ••	
--	----------	--



	•• ••	
--	----------	--



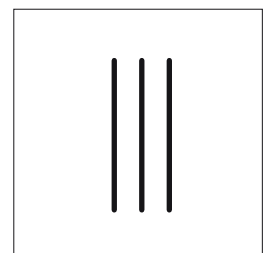

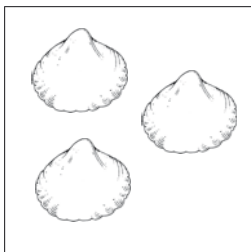
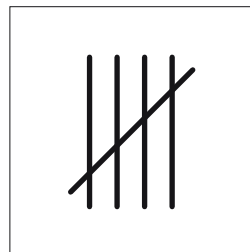

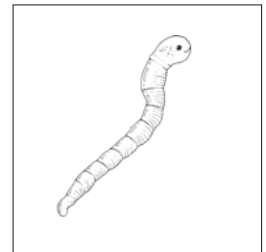


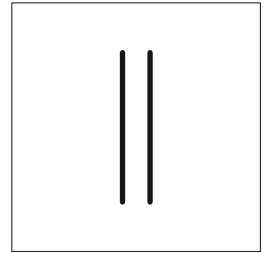
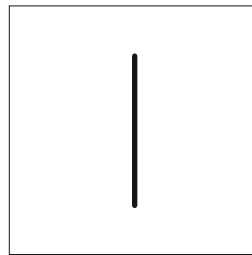



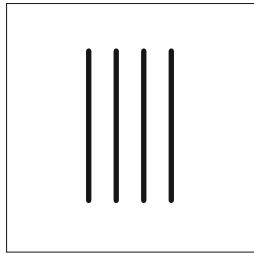

	•••	
--	-----	--



	••	
--	----	--



Was gehört zusammen? Male die Felder in derselben Farbe an!




Du kannst nun das Fünfer-Domino von Seite 49 spielen!

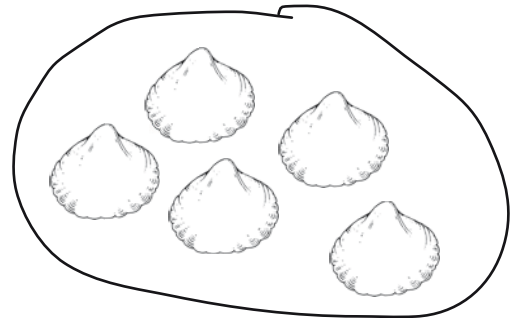


Verbinde mit Lineal die Zahlen mit den passenden Mengen und male die fehlende Menge!

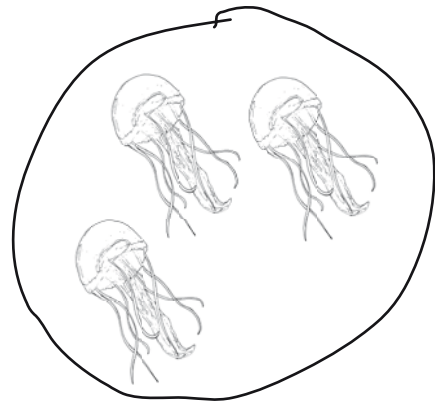
2




3



5



4



1

