


Wie viele gleiche Tiere findest du?

Auf einem Bauernhof leben viele Tiere.


Wie viele Gänse, Enten und Hühner findest du hier?



Ich habe _____ Gänse, _____ Enten und _____ Hühner gefunden.

Im Kuhstall

① Lies den Text.



IM KUHSTALL

KÜHE BRAUCHEN SAUBERKEIT.

DIE BÄUERIN MELKT DIE KÜHE. SIE STELLT DIE VOLLEN MILCHKANNEN VOR DIE TÜR. DA KOMMT SCHON DAS MILCHAUTO ANGEFAHREN. ES BRINGT DIE MILCH IN DIE MOLKEREI.

DER BAUER FÜHRT DIE KÜHE AUF DIE WEIDE. DANN MISTET ER DEN STALL AUS. ZUM SCHLUSS STREUT ER SAUBERES STROH IN DEN KUHSTALL.

② Unterstreiche die 15 Nomen (Substantive).

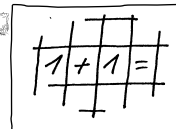
③ Umfahre die 9 Verben.

④ Schreibe die Nomen (Substantive) und Verben in die Tabelle.

| Nomen | | Verben |
|-------|-------|----------|
| Kühe | | brauchen |
| | | |
| | | |
| | | |
| | | |
| | | |
| | | |
| | ----- | |
| ----- | ----- | |

⑤ Findest du zwei Adjektive? Schreibe sie auf die Linie.

Wer bin ich?



Löse die Aufgaben. Verbinde dann die Ergebnisse der Reihenfolge nach.

- | | | |
|------------------------|---------------------|---------------------------------------|
| ① $6 \cdot 7 =$ _____ | ⑫ $45 : 9 =$ _____ | ⑮ $(26 \cdot 2) + 25 =$ _____ |
| ② $5 \cdot 9 =$ _____ | ⑬ $120 : 6 =$ _____ | ⑮ $(3 \cdot 8) + 17 =$ _____ |
| ③ $8 \cdot 4 =$ _____ | ⑭ $42 : 7 =$ _____ | ⑮ $(6 \cdot 9) - 29 =$ _____ |
| ④ $12 \cdot 3 =$ _____ | ⑮ $35 : 5 =$ _____ | ⑮ $(7 \cdot 4) - 11 =$ _____ |
| ⑤ $20 \cdot 5 =$ _____ | ⑮ $72 : 8 =$ _____ | ⑮ $(56 : 7) + 25 =$ _____ |
| ⑥ $9 \cdot 6 =$ _____ | ⑮ $28 : 7 =$ _____ | ⑮ $(42 : 6) + 23 =$ _____ |
| ⑦ $13 \cdot 3 =$ _____ | ⑮ $32 : 4 =$ _____ | ⑮ $(15 \cdot 3) + \text{_____} = 100$ |
| ⑧ $7 \cdot 8 =$ _____ | ⑮ $48 : 2 =$ _____ | ⑮ $(16 : 2) + \text{_____} = 51$ |
| ⑨ $9 \cdot 9 =$ _____ | ⑮ $60 : 5 =$ _____ | ⑮ $(9 \cdot 9) - \text{_____} = 50$ |
| ⑩ $15 \cdot 4 =$ _____ | ⑮ $52 : 2 =$ _____ | ⑮ $(54 : 9) + \text{_____} = 54$ |
| ⑪ $3 \cdot 7 =$ _____ | ⑮ $24 : 8 =$ _____ | |

