
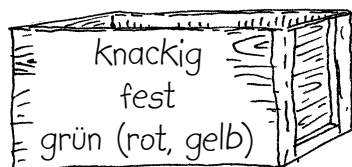




## So kann Gemüse sein

### Arbeitsaufträge

1. Es passen immer drei Adjektive (Eigenschaftswörter) zu einer Gemüseart. Ordne die Wörter dem Gemüse zu. Verbinde mit Linien, was zusammengehört.
2. **Schreibe:** die knackige Paprika, die feste ...
3. **Schreibe:** Die Gurke ist länger als die Bohne. Die Tomate ist saftiger als ...





Ein Igel kann in einer Minute 40 m laufen.

- a) Wie viele Meter läuft er in einer Stunde?

Rechnung:

[illegible]

**Antwort:**

- b) Wie viele Meter könnte er an einem Tag laufen?

Rechnung:

[illegible]

**Antwort:**

## Aufgabe 2

Dir mag das vielleicht nicht sehr schnell vorkommen. Du musst aber bedenken, dass ein erwachsener Igel nur etwa 20 cm lang ist.

Er läuft also in einer Minute das 200-Fache seiner Körpergröße.

- a) Wie viele Meter müsstest du in einer Minute zurücklegen, wenn du im Vergleich zu deiner Körpergröße genauso schnell wie der Igel sein wolltest?

Rechnung:

[illegible]

**Antwort:**

- b) Wie weit müsstest du in einer Stunde laufen?

Rechnung:

[illegible]

**Antwort:**

# Bäume und ihre Blätter



## Arbeitsaufträge

1. Lies dir die Beschreibungen der Blätter genau durch.
2. Ordne den Texten die passenden Abbildungen zu.  
Trage dazu die passenden Zahlen ein.
3. Schreibe die Namen der Bäume unter die Abbildungen.  
(Eiche, Buche, Linde, Ahorn, Haselnuss, Kastanie)

handförmig mit 5 oder 7 Fingern ☐

handförmig mit 5-7 Lappen (gelappt) ☐

eiförmig mit leicht gewelltem Rand ☐

eiförmig mit gebuchtetem Rand ☐

herzförmig mit fein gesägtem Rand ☐

eiförmig mit Spitze und gezähntem Rand ☐

