



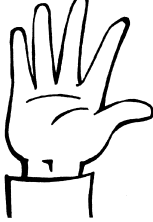



Name: \_\_\_\_\_




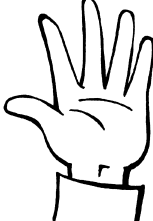



**Wie viele Finger siehst du?**

**Zähle nicht, sondern schreibe die Plus-Aufgabe mit der 5 auf!**

6

 	 	 
$5 + 1$		









 	 	



**Wie heißt die Würfelzahl?**

**Zähle nicht, sondern schreibe die Plus-Aufgabe mit der 5 auf!**

7

 	 	 	 
$5 + 2$			

Name: \_\_\_\_\_



Wie viele? Schreibe die Strichzahl und die dazugehörige Plus-Aufgabe mit der 5 auf!

			5	+	3	=	8
--	--	--	---	---	---	---	---

				+		=	
--	--	--	--	---	--	---	--

				+		=	
--	--	--	--	---	--	---	--

				+		=	
--	--	--	--	---	--	---	--

				+		=	
--	--	--	--	---	--	---	--

				+		=	
--	--	--	--	---	--	---	--

				+		=	
--	--	--	--	---	--	---	--

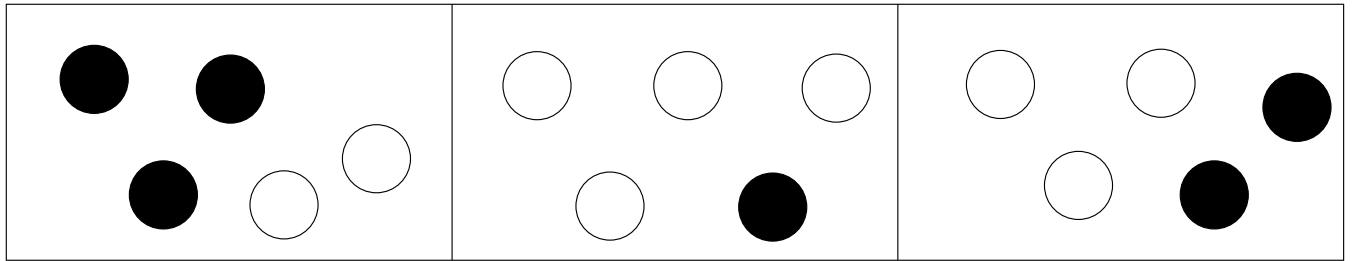
				+		=	
--	--	--	--	---	--	---	--

				+		=	
--	--	--	--	---	--	---	--

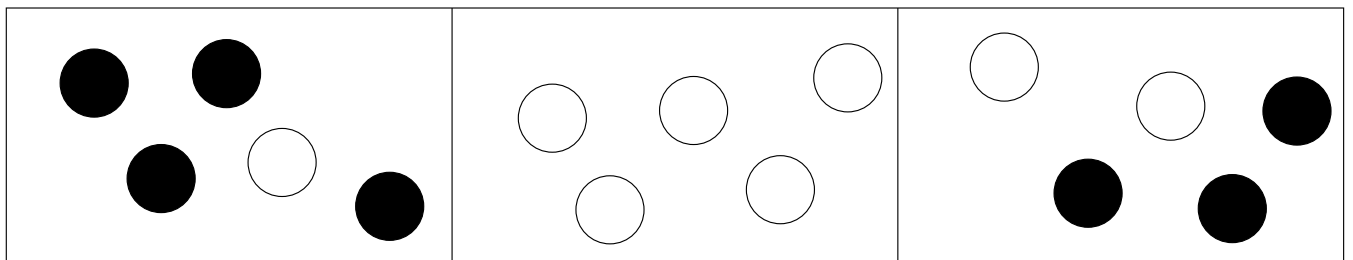
Name: \_\_\_\_\_



**Schau genau! Wie viele rote und wie viele blaue Plättchen wurden geworfen? Trage richtig ein!**



<input style="width: 40px; height: 40px;" type="text"/>	<input style="width: 40px; height: 40px;" type="text"/>	<input style="width: 40px; height: 40px;" type="text"/>	<input style="width: 40px; height: 40px;" type="text"/>	<input style="width: 40px; height: 40px;" type="text"/>	<input style="width: 40px; height: 40px;" type="text"/>
---	---	---	---	---	---



<input style="width: 40px; height: 40px;" type="text"/>	<input style="width: 40px; height: 40px;" type="text"/>	<input style="width: 40px; height: 40px;" type="text"/>	<input style="width: 40px; height: 40px;" type="text"/>	<input style="width: 40px; height: 40px;" type="text"/>	<input style="width: 40px; height: 40px;" type="text"/>
---	---	---	---	---	---



**Welche Wurfmöglichkeiten gibt es? Male die Plättchen rot und blau aus!**



**Mache am Ende immer 5 Striche!**
