



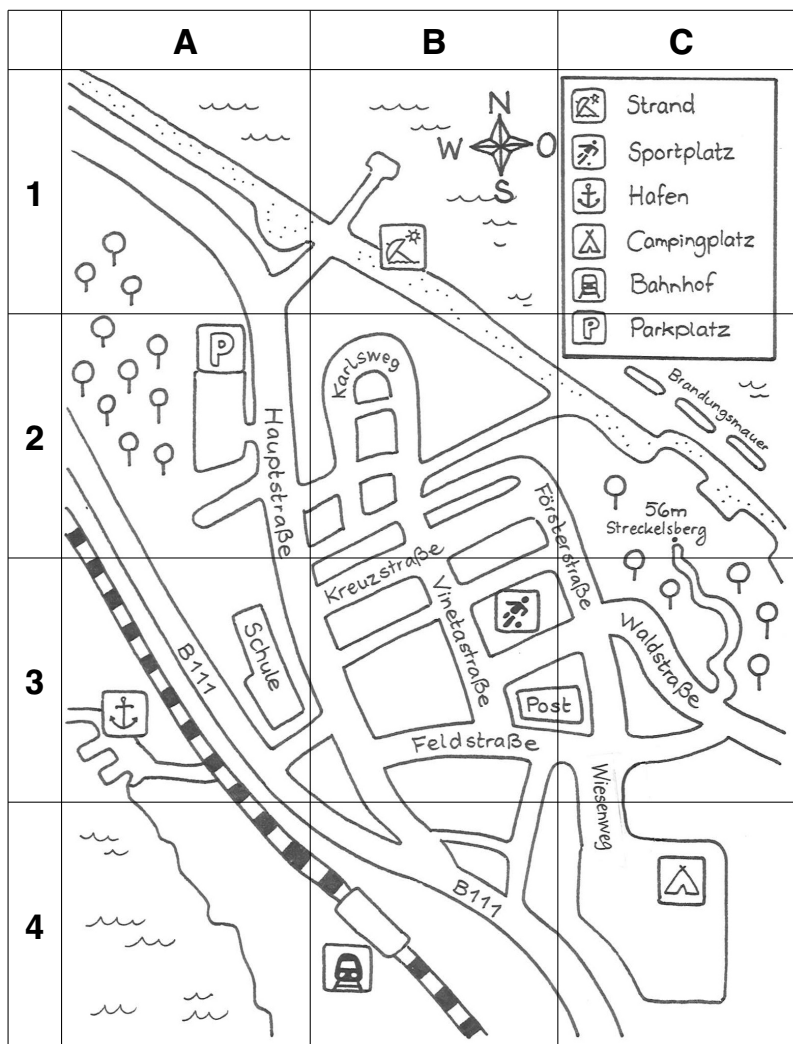
# Finde den Weg



Name: \_\_\_\_\_

## Aufgabe:

Luis feiert Geburtstag. Aber wo? Folge seiner Wegbeschreibung und sammle auf dem Weg noch zwei Freunde ein.



„Du startest im Planquadrat A2 am Parkplatz. Du biegst die nächste Straße rechts ab in die Hauptstraße. Nun biegst du die dritte Straße links ab. An Hausnummer 5 der Kreuzstraße klingelst du und holst Jule ab, die hier wohnt. Nun geht ihr beide die Straße weiter, geht einen Bogen nach rechts auf die Försterstraße und biegt dann nach links auf die Waldstraße ab. Dort wohnt Lilli, die holt ihr auch noch ab. Geht gemeinsam bis zur ersten Kreuzung und biegt dort nach rechts auf die Feldstraße und danach gleich wieder nach links auf den Wiesenweg ab. Lauft ein kleines Stückchen geradeaus. Am Ende der Straße könnt ihr das Ziel schon sehen.“

Wo feiert Luis? \_\_\_\_\_

Welche Adresse hat Jule? \_\_\_\_\_

**Aufgabe:**

Finde Wichtiges über deinen Wohnort heraus.  
Frage ältere Menschen in deiner Nachbarschaft  
oder deine Großeltern und Eltern.



## Mein Wohnortssteckbrief

Hier wohne ich: \_\_\_\_\_

Das liegt in folgendem Bundesland:

\_\_\_\_\_

Mein Heimatort ist ☐ ein Dorf ☐ eine Stadt ☐ ein Stadtteil.

Hier haben wir etwa \_\_\_\_\_ Einwohner.

Hier gibt es \_\_\_\_\_ Geschäfte, davon sind \_\_\_\_\_ Bäckereien,  
\_\_\_\_\_ Fleischereien, \_\_\_\_\_ Supermärkte, \_\_\_\_\_ weitere

Geschäfte, nämlich folgende: \_\_\_\_\_

Meinen Ort gibt es schon seit: \_\_\_\_\_

Das habe ich noch herausgefunden: \_\_\_\_\_

\_\_\_\_\_

\_\_\_\_\_

\_\_\_\_\_

\_\_\_\_\_

\_\_\_\_\_



## Aufgabe:

Male dein Bundesland auf der Deutschlandkarte rot an. Male alle benachbarten Bundesländer grün an und beschrifte sie. Fülle dann die Tabelle aus.



<b>Name meines Bundeslandes</b>	
<b>Lage meines Bundeslandes</b> (Mitte, Süden, Osten, Westen, Norden)	
<b>Anzahl der Nachbar-Bundesländer</b>	
<b>Welche Nachbar-Bundesländer sind es?</b>	



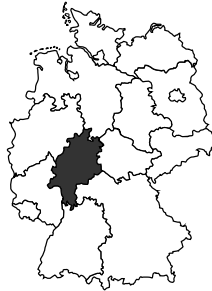
# Bundesländer – Memory® (2)



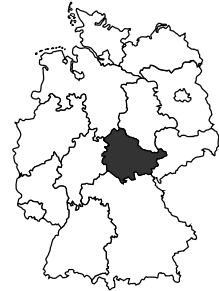
Name: \_\_\_\_\_



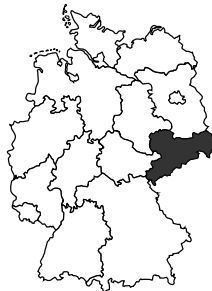
**Hessen**



**Thüringen**



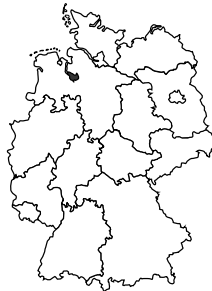
**Sachsen**



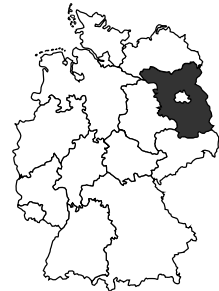
**Bayern**



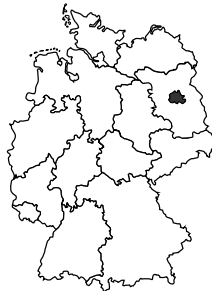
**Bremen**



**Brandenburg**



**Berlin**



**Saarland**





# Sehenswürdigkeiten in Europa (1) 😊

Name: \_\_\_\_\_

## Aufgabe:


1. Lies dir die Infokästen zu den Sehenswürdigkeiten Europas genau durch.

### Das Kolosseum in Rom, Italien




Hier konnten bis zu 50.000 Menschen Gladiatorenkämpfe und Theateraufführungen sehen.

### Der Eiffelturm in Paris, Frankreich



Er wurde zur Weltausstellung 1889 erbaut. Der Eiffelturm ist mit der Fernsehantenne 324 m hoch.

### Der Tower in London, Vereinigtes Königreich



Der Tower wurde im Mittelalter als Festung gebaut und diente dann als Burg, Waffenkammer, Palast und Gefängnis. Heute werden hier die Kronjuwelen der Queen gelagert.

### Das Brandenburger Tor in Berlin, Bundesrepublik Deutschland



Es wurde 1791 fertiggestellt und gilt als Wahrzeichen Berlins. Das Tor wird gekrönt durch die geflügelte Siegesgöttin Viktoria, die einen Wagen lenkt, der von vier Pferden gezogen wird (Quadriga).