




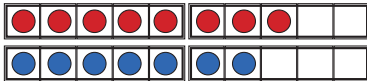
Wege über die 10



Wege über die 10

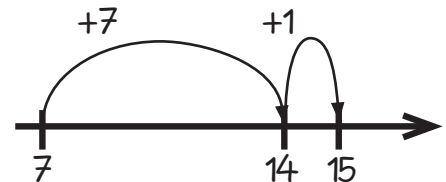
Sieh dir die Lösungswege der Kinder an. Wie rechnen sie?

Kraft der 5



$$5 + 5 + 3 + 2 = \square$$

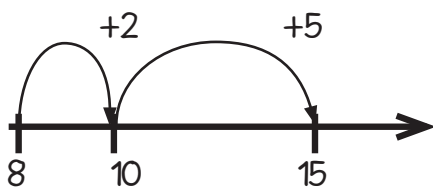
Verdoppeln



$$7 + 7 + 1 = \square$$

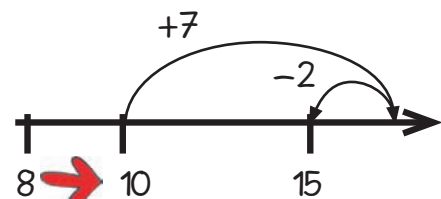
$$8 + 7$$

Ergänzen



$$8 + 2 + 5 = \square$$

Nähe zur 10



$$10 + 7 - 2 = \square$$

Entscheide dich für einen Weg und rechne.

6	+	5	=						

				9	+	8	=				



Merkmale von Münzen kennenlernen

1 Euro hat 100 Cent



= 1 €

Verbinde richtig.



Aus dem Werk 07480 "Komm mit ins Matheabenteuer mit Lisa und Ali Kl.1B" BN: 07480 – Auer Verlag - AAP Lehrerfachverlage GmbH, Augsburg



Unser Geld Euro (€) und Cent (ct)

Cent-Münzen:



Euro-Münzen und -Geldscheine:

