










## Nachbarstaaten – Deutschland in Europa

### Aufgabe 1

Finde mithilfe deines Atlas heraus, um welches Nachbarland von Deutschland es sich jeweils handelt und wie dessen Hauptstadt heißt. Trage die Informationen in der Tabelle ein.

### Aufgabe 2

Zeichne die Flaggen in die passende Spalte. Recherchiere im Atlas oder im Internet, wenn du dir unsicher bist.

Nachbarländer	Name des Landes	Hauptstadt	Flagge
			
			
			
			
			
			
			
			
			



### Aufgabe 3

Schwarz-Rot-Gold – die deutsche Flagge ist dir sicher gut bekannt. Aber wie sieht eigentlich das Wappen von Deutschland aus und was soll damit symbolisiert werden? Recherchiere im Internet.

## Großlandschaften – natur- räumliche Gliederung Deutschlands 1

### Aufgabe 1

Wenn du eine physische Karte von Deutschland betrachtest, fällt dir sicherlich auf, dass sich die Landschaft in Deutschland von Nord nach Süd verändert. Die Vielfalt der Landschaften Deutschlands kann zu vier Bereichen zusammengefasst werden. Diese sogenannten Großlandschaften heißen:

Mittelgebirge – Alpenvorland – Norddeutsches Tiefland – Alpen

- Ordne mithilfe des Atlas die Namen der Großlandschaften von Nord nach Süd, in der Tabelle ein.
- Zeichne mithilfe des Atlas grob die Bereiche der Großlandschaften in die Deutschlandkarte ein. Beachte die Farbgebung.
- Markiere die Lage der höchsten Erhebung ungefähr in der Karte.



### Aufgabe 2

Trage mithilfe des Atlas die fehlenden Informationen in der Tabelle ein.

Großlandschaften	Höhe	Höchste Erhebung	Landschaften (Nenne jeweils zwei Namen.)

## Großlandschaften – natur- räumliche Gliederung Deutschlands 2

### Aufgabe 3

Ordne die Stichpunkte und Fotos den Großlandschaften zu. Markiere dafür zusammengehörige Teile mit derselben Farbe.

4.

Gipfel oft von Schnee bedeckt

Alpenvorland

schroffe, kantige Formen



2.



höchste Erhebungen Deutschlands

abgerundete Berge

bewaldete Berge

geformt durch die Gletscher der Alpen während der letzten Eiszeit

Nord- und Ostseeküste

Berge mittlerer Höhe

flach und kaum über dem Meeresspiegel

1.



Alpen

Mittelgebirge

Alpen von vielen Orten aus sichtbar

Norddeutsches Tiefland

flach bis leicht hügelig

3.

