

## Textaufgaben für jeden Tag

Mittwoch - Woche 1



Jan hat Geburtstag. Er ist zehn Jahre alt geworden. Wie viele Kerzen hat Jan an all seinen Geburtstagen zusammen auf seinen Geburtstagskuchen gehabt? Denke daran, dass er zehn Geburtstagskuchen hatte.

Name:

Rechnung:

Antwort:

\_\_\_\_\_ Kerzen

## Textaufgaben für jeden Tag

Donnerstag - Woche 1



Lisa macht Kerzen. Sie weiß, dass jede Kerze einen 4 cm langen Docht braucht. Sie möchte sieben Kerzen machen. Wie viele Zentimeter Docht braucht sie dafür?

Name:

Rechnung:

Antwort:


\_\_\_\_\_ cm Docht

# Textaufgaben für jeden Tag

Name: \_\_\_\_\_




Freitag - Woche 1

## Kerzen



Willkommen in deinem eigenen Kerzengeschäft. Du musst drei Kerzen verzieren. Verwende alle Verzierungen, die unten aufgelistet sind. Jede Kerze muss gleich viele Verzierungen einer Sorte haben.

- 6 lächelnde Gesichter
- 9 Sterne
- 3 Bögen
- 12 Blumen



Verwende die Kerzen, die du verziert hast, um folgende Fragen zu beantworten.

- Wie viele lächelnde Gesichter sind auf jeder Kerze? \_\_\_\_\_
- Wie viele Sterne sind auf jeder Kerze? \_\_\_\_\_
- Wie viele Bögen sind auf jeder Kerze? \_\_\_\_\_
- Wie viele Blumen sind auf jeder Kerze? \_\_\_\_\_
- Wie hast du herausgefunden, wie viele Verzierungen einer Sorte du für jede Kerze brauchst?

\_\_\_\_\_  
\_\_\_\_\_