

Beispiel

	H	Z	E
	3	5	6
-	1	2	4
	2	3	2

Rechne: $6 - 4 = 2$

$5 - 2 = 3$

$3 - 1 = 2$

Ergibt: 232

1 Subtrahiere die Zahlen von oben nach unten. Beginne mit den Einern.

	H	Z	E
	5	2	3
-	1	2	2

	H	Z	E
	3	3	3
-	2	2	2

	H	Z	E
	6	4	2
-	4	2	1

	H	Z	E
	3	6	4
-	3	5	2

	H	Z	E
	5	7	9
-	1	2	0

	H	Z	E
	8	7	7
-	0	7	2

	H	Z	E
	4	6	2
-	1	0	1

	H	Z	E
	3	6	9
-	2	1	0

Lösungen

401

159

111

361

221

805

12

459

2 Trage die Zahlen in die Stellenwerttafel ein und subtrahiere.

 $516 - 310$

	H	Z	E

 $465 - 213$

	H	Z	E

 $282 - 161$

	H	Z	E

 $559 - 423$

	H	Z	E

Lösungen

206

136

252

121

**Beispiel**

	H	Z	E
	5	8	9
-	4	6	1
	1	2	8

Rechne: $9 - 1 = 8$ $8 - 6 = 2$ $5 - 4 = 1$

Ergibt: 128

1

Trage die Zahlen in die Stellenwerttafel ein und subtrahiere von oben nach unten. Beginne mit den Einern.

$395 - 212$

	H	Z	E

$783 - 272$

	H	Z	E

$643 - 342$

	H	Z	E

$535 - 314$

	H	Z	E

Lösungen

221

301

511

183

2

Bilde aus den Ziffern 4, 6 und 8 verschiedene Zahlen und trage sie in die oberen Kästchen ein. Bilde aus den Ziffern 1, 2 und 3 die Zahlen für die unteren Kästchen. Berechne die Ergebnisse.

	H	Z	E

	H	Z	E

	H	Z	E



- 1 Trage die Zahlen in die Stellenwerttafel ein und subtrahiere von oben nach unten. Beginne mit den Einern.

$635 - 422$

	H	Z	E

$683 - 281$

	H	Z	E

$342 - 201$

	H	Z	E

$595 - 374$

	H	Z	E

Lösungen

221

213

141

402

- 2 Kannst du die Lücken ausfüllen?

	H	Z	E
	4		4
-		3	2
	3	1	

	H	Z	E
	8	3	
-	7		1
		1	8

	H	Z	E
		8	9
-	2	1	
	7		9

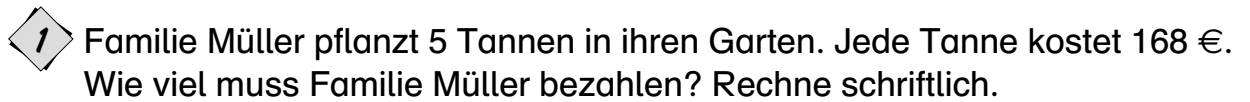
	H	Z	E
	3		7
-		5	6
	3	4	

	H	Z	E
	9	4	
-	2		3
		2	2

	H	Z	E
	8		5
-	4	3	
		6	1



Ziehe 6 Ziffernkärtchen und sortiere sie in die Stellenwerttafel ein. Berechne das Ergebnis. Dein Partner kontrolliert. Wechselt euch ab.




- [illegible]

- 1** Die Schule bestellt für die Sporthalle neue Geräte. Auf dem Bestellschein stehen 17 Matten zu je 117 €, 23 Reifen zu je 8,45 € und 9 Bälle zu je 4,95 €. Wie viel muss die Schule bezahlen?



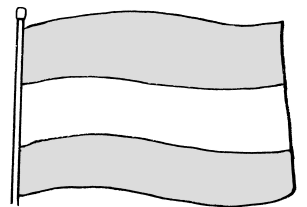
Antwort:

- 2** Das Reisebüro Kern hat für eine Italien-Reise 63 Anmeldungen. Die Reise kostet 728 €. Wie viel nimmt das Reisebüro ein?



Antwort:

- 3** Für eine Österreich-Reise haben sich 35 Erwachsene und 23 Kinder angemeldet. Für Erwachsene kostet die Reise 398 €. Kinder bezahlen die Hälfte. Wie viel nimmt das Reisebüro ein?

[illegible]

Antwort:

- 4** Überlege dir eigene Rechengeschichten zur schriftlichen Multiplikation. Kann dein Partner sie lösen?

