

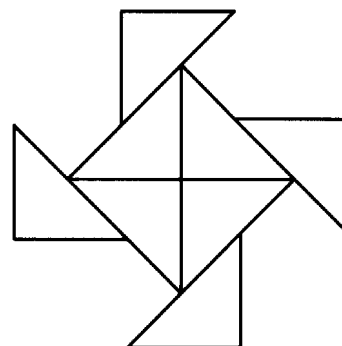
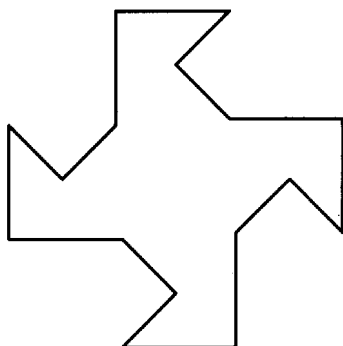


## Aufgabe 1

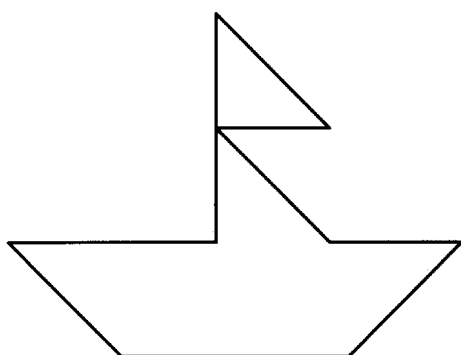
Lege folgende Figuren nach.

Zeichne anschließend die Lage der einzelnen Dreiecke in die Abbildung ein.

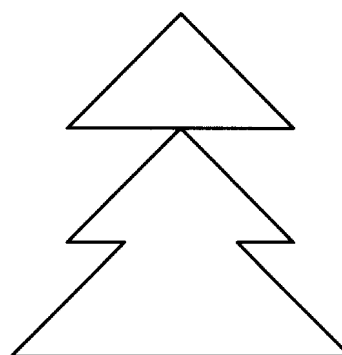
*Beispiel:*



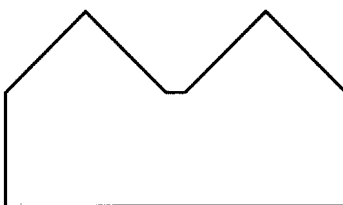
a)




b)



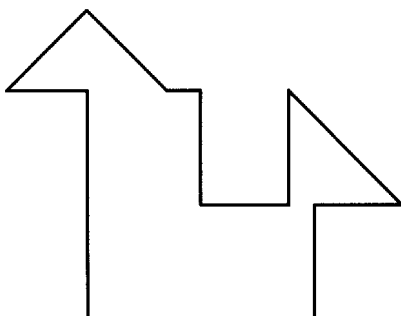
c)



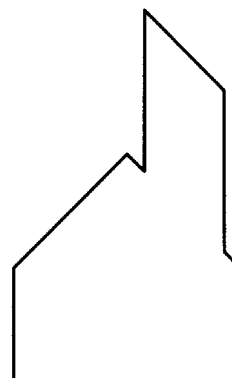
d)



e)



f)



## Aufgabe 2



Erfinde selbst eine oder mehrere Figuren. Lege dazu die Schablonen auf ein Blatt Papier und fahre vorsichtig den Umriss nach.

Lass die Figuren dann von einem Mitschüler nachlegen.

