

Das Leben auf der Burg – Die Ritter

Name: _____

Datum: _____



Auf einer Burg

1. Lies den Text genau durch. Ordne die Zahlen den Teilen der Burg zu.

Burgen standen an geschützten Orten, z. B. auf steilen Bergen (Höhenburgen) oder in Seen (Wasserburgen). Im ebenen Gelände waren sie durch Wassergräben und hohe Mauern umgeben. Über den Burggraben ① führte eine Zugbrücke ②. Bei einigen Burgen bildete der Ringgraben ③ eine zweite Sicherung. Ein Fallgitter ④ konnte das Burgtor zusätzlich verschließen. Die Burg war von einer hohen Mauer ⑤ mit Schießscharten ⑥ für Bogenschützen umgeben. Ein Wehrgang ⑦ führte an der Mauer entlang. Wachtürme ⑧ dienten zur Verteidigung. Der höchste Turm war der Bergfried ⑨. Der Burgherr wohnte mit seiner Familie im Palas (= Herrenhaus) ⑩. Nebenan lag die Burkapelle ⑪. In den Ställen ⑫ waren die Tiere untergebracht. Der Brunnen ⑬ versorgte die Menschen mit Wasser.



2. Welche Arten von Burgen wurden unterschieden?

a) _____ b) _____

3. Schreibe auf. Welche Teile der Burg dienten dem Schutz der Einwohner?

Das Leben auf der Burg – Die Ritter

Name: _____

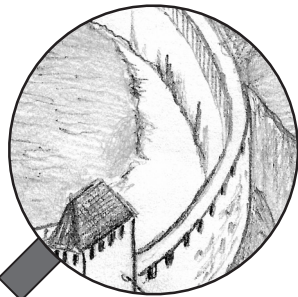
Datum: _____



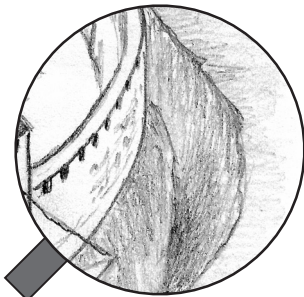
Die wichtigsten Gebäude der Burg und ihre Bedeutung

1. Welche Gebäude sind abgebildet? Trage die Begriffe in die Kästen ein und ordne die Textfelder durch Pfeile zu.

Burgbrunnen – Bergfried – Burggraben – Burgkapelle –
Stall – Mauern – Palas – Zugbrücke



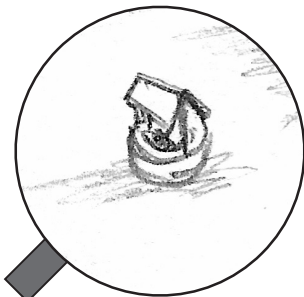
Hier wohnte der Burgherr und seine Familie. Im Rittersaal wurden Gäste empfangen und Feste gefeiert.



Im Mittelalter waren die Menschen sehr gläubig, deshalb gab es ein Gebäude für Gebete und die Erledigung religiöser Pflichten.



Das höchste und mit meterdicken Mauern sicherste Gebäude der Burg war der letzte Zufluchtsort bei einem Angriff.




Sie diente als Schutz vor Angriffen. Nur wenn sie heruntergelassen war, konnte man den Burggraben überqueren.




Oft mussten Burgen lange Belagerungen überstehen. Das war nur möglich durch eine sichere Versorgung mit Wasser.



Es ist ein Gebäude für die Pferde und Nutztiere der Burg. Hier wurden auch Stroh und Heu gelagert.



Ein Wasserlauf rund um die Burg schützte vor Angriffen und diente oft zusätzlich der Entsorgung von Abfall und Abwässern.



Sie waren der wichtigste Schutz der Burg. Auf ihnen verliefen die Wehrgänge, die von Turm zu Turm führten.

Das Leben auf der Burg – Die Ritter

Name: _____

Datum: _____



Die Ritterrüstung

1. Fülle die Lücken aus. Setze jeweils den richtigen Begriff aus dem Kasten ein.

Kettenhemden – Metallringen – Röhrenpanzern – Schwert –
Wappen – Knappen – Helm – Schild

Die ersten Ritter trugen _____ aus mehreren tausend _____.
Die Beine schützte der Ritter mit _____, seinen Kopf mit einem _____.
Im Kampf trug er _____ und _____. Darauf war das _____
aufgemalt. Im Kampf wurde der Ritter von einem _____ begleitet.

2. Ordne die Begriffe aus dem Kasten richtig zu. Zu welchen Teilen der Abbildung passen sie?

