






















Name: \_\_\_\_\_




Wie viele dunkle und helle Kugeln sind es?  
Schreibe die Plusaufgabe.


Übungsaufgabe	Runde 3	Runde 2	Runde 1
 			$4 + 3 = 7$
 			
 			
 			
 			
 			
 			
 			
 			
 			
 <b>Punkte</b>			

Name: \_\_\_\_\_



Rechne die Plusaufgaben.


Übungsaufgabe	Runde 4	Runde 3	Runde 2	Runde 1
$15 + 3 = ?$				18
$13 + 3 = ?$				
$14 + 1 = ?$				
$15 + 2 = ?$				
$18 + 1 = ?$				
$11 + 2 = ?$				
$12 + 6 = ?$				
$13 + 1 = ?$				
$17 + 3 = ?$				
$15 + 2 = ?$				
 Punkte				



Name: \_\_\_\_\_



Rechne die Minusaufgaben.

Übungsaufgabe	Runde 4	Runde 3	Runde 2	Runde 1
$40 - 25 = ?$				
$73 - 39 = ?$				
$84 - 67 = ?$				
$61 - 26 = ?$				
$48 - 19 = ?$				
$54 - 33 = ?$				
$45 - 24 = ?$				
$36 - 17 = ?$				
$57 - 26 = ?$				
$62 - 15 = ?$				
 Punkte				