



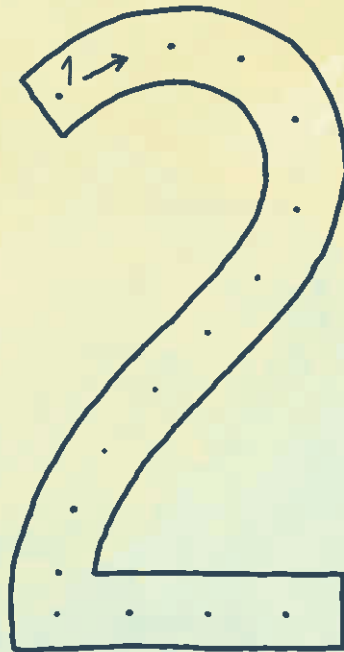


Anouk zählt Obst und Gemüse – welches davon gibt es nur einmal? Verbinde es mit der Zahl. Spure die Zahl mit dem Stift nach und übe sie in den unteren Zeilen.





Von welchen Dingen braucht man jeweils 2? Kreise sie ein.
Fahre die 2 nach und übe sie in den unteren Zeilen.





Anouk und Affi spielen Domino. Doch was ist hier passiert? Kannst du die freien Felder mit den richtigen Zahlen ergänzen?





Was ist eine Zahl und was ist ein Buchstabe?
Kreise die Zahlen ein!



7

8

I

3

S

E

5

G

1

Z

2

B