



Hilfskarte



minus rechnen / subtrahieren → abziehen


Es gibt eine Menge, von der ich etwas **abziehe**.

Ich habe 7 Äpfel, 2 davon esse ich auf.

Frage: Wie viele Äpfel habe ich noch?

Rechnung: $7 - 2 = 5$

Antwort: Ich habe jetzt nur noch 5 Äpfel.



Signalwörter: etwas wird weniger, kürzer, kleiner, leichter, günstiger, wegnehmen



Hilfskarte



minus rechnen / subtrahieren → Unterschied


Es gibt 2 Mengen und ich berechne den **Unterschied**.

Adam hat 5 graue Mäuse und 2 weiße Mäuse.


Frage: Wie viele graue Mäuse hat er mehr als weiße?

Rechnung: $5 - 2 = 3$

Antwort: Adam hat 3 graue Mäuse mehr als weiße Mäuse.



Signalwörter: wie viel mehr, weniger, höher, niedriger, weiter, näher, teurer, günstiger als etwas



27	E
14 €	Ö
5,50 €	B
31	E
6,50 €	O
29	R
7 €	N
25	T
14	S
5 €	C
30	E
3 €	R
11	U
12 €	N



Am Hafen 2

Adam und Mara sind mit ihren Eltern den ganzen Tag am Hafen. Mittags bekommt die Familie Hunger. Papa mag keinen Fisch. Er kauft etwas an der Pommesbude. Mama hat keinen großen Hunger. Ihr reicht eine Tasse Kaffee. Und Adam und Mara?

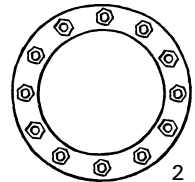
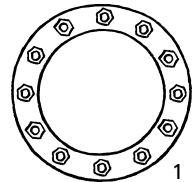
1

Mamas Kaffee kostet 2 €.
Sie bezahlt mit einem 5-€-Schein.

Frage: Wie viel Geld bekommt sie zurück?

Rechnung: _____

Antwort: Sie bekommt _____ zurück.



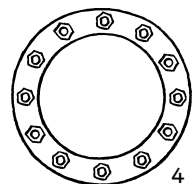
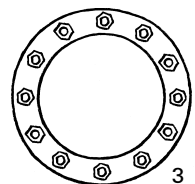
2

Eine Tüte Pommes kostet 3,50 €.
Papa nimmt noch eine Bratwurst für 2 € dazu.

Frage: Wie viel kostet alles zusammen?

Rechnung: _____

Antwort: Alles zusammen kostet _____



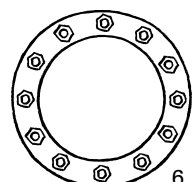
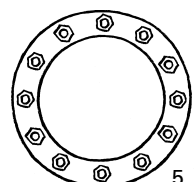
3

Ein Mann kauft eine Fahrkarte für 3 €.
Er bezahlt mit einem 10-€-Schein.

Frage: Wie viel Geld bekommt er zurück?

Rechnung: _____

Antwort: Er bekommt _____ zurück.



In den Bergen 1

In den Osterferien besuchen Mara und Adam ihre Großeltern. Sie wohnen in den Bergen. Heute machen sie einen Ausflug. Als sie eine Pause machen und ihre Brote essen, bekommen sie plötzlich Besuch. Wer kommt da?

1

Die Großeltern sind mit den Kindern im Bus bis zur Talstation gefahren. Adam hat 49 Fahrgäste im Bus gezählt. An der Haltestelle steigen die 4 zusammen mit 22 anderen Personen aus.

Frage: Wie viele Fahrgäste fahren noch weiter?

Rechnung: _____

Antwort: Es fahren _____ Fahrgäste weiter.



2

Auf ihrer Wanderung kommen sie an 12 Kühen vorbei. Der Bauer lädt seine Milchkanen auf einen kleinen Wagen. Mara fragt ihn, ob er noch mehr Kühe hat. Er antwortet: „Ja, auf der Weide in der Nähe habe ich noch 15 Kühe stehen.“

Frage: _____ Kühe hat der Bauer insgesamt?

Rechnung: _____

Antwort: Insgesamt _____



3

Adam schaut dem Förster zu. Er lädt Baumstämme von einem Stapel auf seinen Wagen. Der Förster sagt: „Hier lagen insgesamt 88 Baumstämme. Ich muss insgesamt 35 Baumstämme aufladen.“

Frage: _____ bleiben am Ende liegen?

Rechnung: _____

Antwort: Es bleiben _____

