








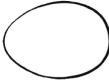






# Jedem Huhn sein Ei

?

- Jedes Huhn hat ein Ei gelegt.  
Das Ei kann im Feld neben ihm, unter ihm oder über ihm sein, aber nicht in einem diagonal liegenden Nachbarfeld.
- Die Zahlen neben und unter dem Gitter geben an, wie viele Eier es jeweils in der Reihe daneben oder darüber sind.
- Eier dürfen nicht direkt nebeneinander oder untereinander liegen.

!

Fünf Eier sind vorgegeben.  
Geh von den Reihen aus, die schon fertig sind.

							1
							2
							1
							2
							1
							2
2	1	2	0	2	0	2	