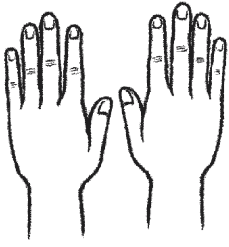


Berechne die Hälfte.

1




Die Mutter schneidet Heidi die Fingernägel. Die Hälfte hat sie schon geschnitten. Wie viele Fingernägel sind das?

Die Hälfte von ____ ist ____.

Es sind schon ____ Fingernägel geschnitten.

2



Thomas hat 8 Bonbons. Die Hälfte isst er sofort auf. Die übrigen legt er unters Kopfkissen. Wie viele Bonbons isst Thomas auf?

Die H____ von ____ ist ____.

Thomas isst ____ B____ auf.

3

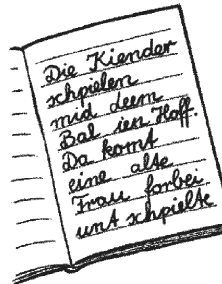


Tanja isst immer 4 Brötchen zum Frühstück. Der Arzt rät: „Iss nur die Hälfte“. Wie viele Brötchen soll sie essen?

Die ____ von ____ ist ____.

Tanja soll nur ____ Brötchen essen.

4



Am Montag hatte Oskar 12 Fehler im Diktat. Am Dienstag hatte er nur halb so viele. Wie viele Fehler hatte Oskar am Dienstag?

Die ____ von ____ ist ____.

Am Dienstag hatte Oskar nur noch ____ Fehler.

5



Pit und Guido teilen sich 18 Kekse. Wie viele bekommt jeder?

Die ____.

Jeder bekommt ____.

6



Gisela und Lara teilen sich eine Tafel Schokolade mit ____ Stücken. Wie viele Stücke bekommt jede?

D ____.

Jede bekommt ____.

Welche Frage passt? Verbinde.

1



Zur Klasse 2 gehören
20 Kinder.
Am Montag fehlen
4 Kinder.

Wie viele Kinder
fehlen am Montag?

Wie viele Kinder
sind am Montag da?

2



In der Klasse 4a kommen
9 Kinder mit dem
Fahrrad zur Schule.
20 Kinder kommen
mit dem Bus.

Wie viele Kinder sind
in der Klasse 4a?

Wie viele Kinder haben
kein Fahrrad?

3




In der Klasse 2b sind nur
7 Mädchen.
Insgesamt sind 30 Kinder
in der Klasse.

Wie viele Mädchen
gehen in die Klasse 2b?

Wie viele Jungen
sind in der Klasse 2b?

4




Die Klasse 3a hat
30 Kinder.
In der Klasse 3b sind
3 Kinder weniger.

Wie viele Jungen
sind in der Klasse 3b?

Wie viele Kinder
sind in der Klasse 3b?

Wie viele Jungen
sind in der Klasse 3a?

5



In der Klasse 1a
sind 9 Mädchen und
10 Jungen.

Wie viele Kinder
sind in der Klasse 1b?

Wie viele Kinder
können schon lesen?

Wie viele Kinder
sind in der Klasse 1a?