

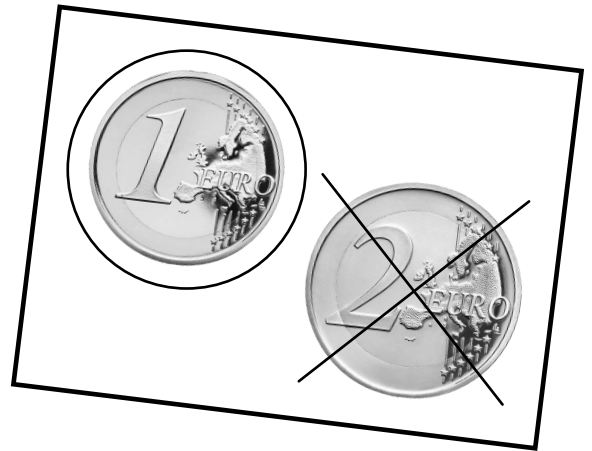


Name: _____ Datum: _____

Aufgabe:

Kreise alle 1-Euro-Münzen ein. 
Streiche die 2-Euro-Münzen durch. 





Merke!

Der 10-Euro-Schein



Wert: ●●●●● ●●●●●
Zahl: 10

Der 10-Euro-Schein ist **weiß** und **orange-rot**.

An zwei Stellen steht eine **große 10** auf dem Schein.


Der rechte Rand glitzert **silbern**.

Das Wort „Euro“ steht in **drei Sprachen** darauf.

Name: _____

Datum: _____


Aufgabe:

Schreibe die Wörter an die richtige Stelle. 

Punkt – Komma – Cent-Zahl – Euro-Zahl – Produktname

Aktion

Frisches Bauernbrot

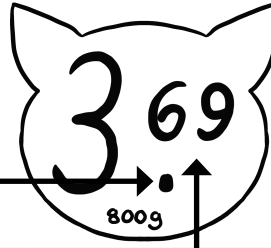


500g 3,40 €

1 kg / 6,80 €


Katzenfutter


ANGEBOT



3 69

800g





Kabeljau-Filet



€ 2,79

100g

