



- Sortiert die Zeilen der Nationalhymne.
- Die richtige Reihenfolge verrät euch den Lösungsbuchstaben für den Ausgang:
 ABCD = A BDAC = E DBCA = I DCBA = O BCAD = U



Das Wort hat **drei** Silben und heißt so viel wie „Beweis für das Glück“.

Wir sollen **eins** sein!

Die schnellsten Noten im **Vier**-Viertel-Takt!

Stattdessen könnte man auch die **zwei** Wörter „fleißig versuchen“ sagen.


.....  **COMPUTER DER ALIENS**

Ob die Aliens jetzt endlich zufrieden sind? Immerhin konntet ihr ihnen eine Menge über die deutschen Bundesländer beibringen!
Dabei habt ihr diese Zahlen gesammelt:



Ihr tippt die Zahlen in den Computer der Aliens ein. Es rattert, es piept, es surrt ... und dann erscheint ein Bild!

- Malt das Bild aus! Dafür braucht ihr eure Lösungszahlen und vier Farbstifte. Am besten übernimmt jede/jeder von euch eine oder zwei Farben.






- Helft bei der Suche nach den Mittelgebirgen! Das GESUCHT-Plakat verrät, was ihr tun sollt.
- Schneidet die Deutschlandkarte entlang der Grenze aus. Legt die Karte auf das Zahlengewirr. Befestigt sie mit wenig Klebestift oder Klebefilm.
- Haltet das Ganze ans Fenster oder vor eine Lampe. Nun bekommt ihr den **Durchblick** und die Lösungszahlen für den Wegweiser:



GESUCHT












48



- Findet die Namen der Mittelgebirge und Berge heraus. Die Bilder helfen dabei. Dass einige Wörter **groß**geschrieben sind, ist kein Zufall.
- Zählt die Buchstaben der sechs Bergnamen. Besteht ein Name aus einem Wort, erhaltet ihr eine einstellige Zahl. Besteht er aus zwei Wörtern, eine zweistellige (1. Wort = Zehner, 2. Wort = Einer).
- Diese sechs Zahlen sind eure Lösungszahlen für den Wegweiser:



Die höchsten deutschen Mittelgebirge (Auswahl)

Mittelgebirge	Höchster Berg	Höhe
 +  _____	 +  _____	1493 m
Bayerischer  _____	Arber _____	1456 m
Erzgebirge _____	Fichtel  _____	1215 m
 <div style="border: 1px solid black; padding: 2px; display: inline-block;">e → a</div> _____	Brocken _____	1141 m
Thüringer  _____	Beerberg _____	982 m
Hunsrück _____	Erbes  _____	816 m