


# DIE WÄHRUNG EURO: EURO-SCHEINE

## Arbeitsblatt 2




**A 1** In jedem Portemonnaie befinden sich drei Geldscheine. Addiere den Wert der drei Scheine und notiere dein Ergebnis.

a)




Antwort: \_\_\_\_\_

b)




Antwort: \_\_\_\_\_

c)



Antwort: \_\_\_\_\_

d)



Antwort: \_\_\_\_\_

# MIT GELDBETRÄGEN RECHNEN: GANZE ZAHLEN

## Arbeitsblatt 2



Ben, Abbas und Hugo sind hungrig und durstig. Sie gehen nach der Schule zum Kiosk. Jeder hat eine Handvoll Kleingeld.

### A 1 Zähle, wie viel Geld jeder hat.

a) Ben:



Ben hat \_\_\_\_\_.

b) Abbas:




Abbas hat \_\_\_\_\_.

c) Hugo:



Hugo hat \_\_\_\_\_.

### A 2 Kannst du sagen, welche der nachfolgenden Waren sich jeder kaufen kann, ohne dass viel Geld übrig bleibt? Es gibt natürlich mehrere Möglichkeiten.



Ben kauft: \_\_\_\_\_

für \_\_\_\_\_ Euro und hat \_\_\_\_\_ Restgeld.

Abbas kauft \_\_\_\_\_

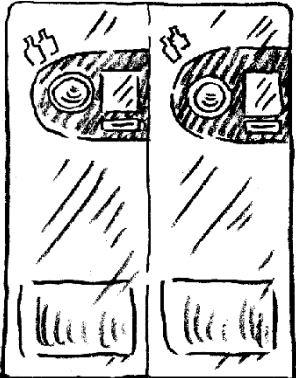

für \_\_\_\_\_ Euro und hat \_\_\_\_\_ Restgeld.

Hugo kauft \_\_\_\_\_

für \_\_\_\_\_ Euro und hat \_\_\_\_\_ Restgeld.

# chbarschaft

Beute zum



- [illegible]

Antwort:

- 

Antwort:

## Arbeitsblatt 1



Hast du schon einmal eine Wunschliste geschrieben, zu Weihnachten oder zu deinem Geburtstag? Dann weißt du sicherlich, dass zwar jeder Wunsch erlaubt ist. Aber ob sich ein Wunsch tatsächlich erfüllt, hängt von den Kosten ab, die damit verbunden sind.

- A 1** Oma und Opa haben dir zum Geburtstag 100 Euro geschenkt, damit du dir etwas Tolles kaufen kannst. Natürlich hast du nicht wenige Wünsche. Mache eine Liste mit mindestens fünf Dingen, die du gerne kaufen möchtest. Wäge dabei die Vor- und Nachteile wie in dem Beispiel ab.  
Am Ende solltest du deinen Großeltern kurz erklären, welche Entscheidung du getroffen hast.

Was?	Preis?	Vorteil 	Nachteil 
Gebrauchtes Smartphone	125 Euro	ein tolles Modell, das mir gut gefällt	Ich muss noch warten und nächsten Monat 25 Euro Taschengeld draufzahlen.

Ich entscheide mich für \_\_\_\_\_ ,  
weil \_\_\_\_\_ .