

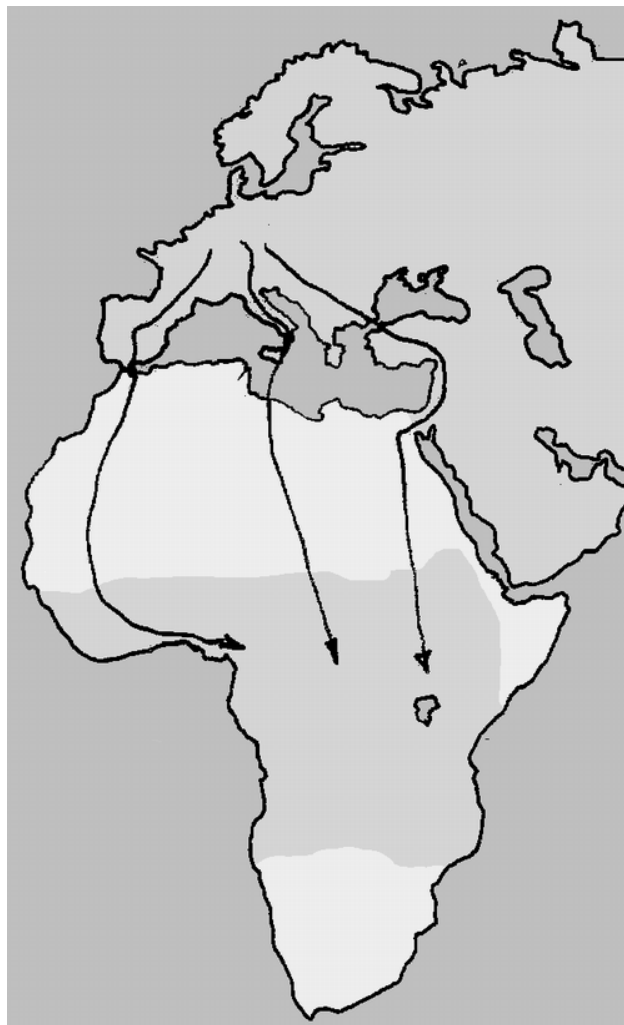
Station 3 – Wege eines Zugvogels

Hier siehst du eine Landkarte.

Welche Kontinente sind dargestellt? _____

Die Pfeile zeigen die Wege der Zugvögel. Die Pfeilspitzen zeigen deren Ziele. Sie fliegen im Herbst aus Deutschland, Österreich, der Schweiz und anderen Ländern fort und ziehen in verschiedene Länder im Süden.

Ihr Weg führt sie über die Wüste _____.




Welche Länder überfliegen die Vögel? Du kannst es an den Pfeilen erkennen.

_____, _____,

_____, _____,

_____, _____






Station 14 – Findest du die 8 Vogelnamen?

B	Y	B	U	N	T	S	P	E	C	H	T	T	Y	B	B	C	M	T	B
N	C	M	E	L	K	A	S	M	S	V	L	J	X	E	A	M	T	Z	D
H	Ö	R	V	K	T	D	J	T	Ä	E	C	Z	V	J	C	T	I	M	A
A	W	D	R	T	J	N	M	K	L	O	Ü	Ö	O	Z	H	E	J	Ü	B
U	K	T	G	M	N	W	R	Ö	D	G	T	L	M	K	S	F	K	I	K
S	U	B	E	I	C	H	E	L	H	Ä	H	E	R	K	T	Ö	L	T	N
S	L	Q	K	Ü	W	T	N	W	T	T	Q	Ä	W	T	E	O	P	Q	M
P	O	W	M	A	V	M	N	T	G	J	S	A	Ü	L	L	J	Ä	A	C
E	K	R	L	E	S	I	E	M	L	H	O	K	A	I	Z	E	A	P	W
R	T	S	I	W	W	R	H	J	Ö	S	Ö	L	P	D	E	T	D	U	T
L	E	A	P	D	D	L	C	L	K	Q	X	E	O	Q	H	F	W	R	D
I	G	D	X	V	N	R	L	Z	H	K	V	I	L	Ä	E	A	T	M	U
N	Ü	N	M	E	G	Ü	H	U	T	P	S	B	K	C	T	X	S	J	O
G	M	Ö	W	T	P	A	E	J	G	Ä	C	E	G	V	D	I	T	H	Ö
S	B	T	B	N	Z	W	K	Ü	E	S	U	R	M	E	Ä	Q	H	Q	A
D	Q	O	Z	Ü	Ö	F	T	A	V	F	Z	G	T	R	L	Ü	L	V	Ü
F	W	J	G	A	W	V	O	Q	N	Ü	J	G	I	M	P	E	L	T	G
T	C	L	C	D	E	N	R	K	I	H	T	E	E	X	T	T	E	E	B
H	A	Ä	A	X	B	O	Q	X	B	N	G	H	B	K	H	K	P	B	W

Welche Vogelnamen konntest du finden?



Welcher dieser Vögel ist ein Zugvogel?
